

voorbeeld toelatingstoets pabo

Aardrijkskunde

toetsinformatie

aantal opgaven: 60 meerkeuzevragen
afnameduur 90 minuten
(met een dyslexieverklaring: 30 minuten verlenging)

toetsresultaat

Je kunt de gemaakte voorbeeld toelatingstoets pabo Aardrijkskunde nakijken met behulp van het Aardrijkskunde antwoordbestand. Het aantal goed beantwoorde opgaven bepaalt je totaalscore op de voorbeeldtoets.

Het is niet mogelijk om aan te geven met welke score je geslaagd zou zijn voor een toelatingstoets pabo, omdat de grens voldoende / onvoldoende voor de toelatingstoetsen nog niet is vastgesteld.

Om toch een richtlijn te geven; hieronder het percentage opgaven dat een pabo-student op dit moment goed moet hebben om te slagen voor de entreetoets Mens en Wereld.

MenW-entreetoets Aardrijkskunde: geslaagd bij 71% van de opgaven goed


LET OP: aan dit percentage kan voor de toelatingstoets pabo Aardrijkskunde geen enkel recht ontleend worden.

Deze toets is in opdracht van de MBO Raad ontwikkeld door Cito.

© MBO Raad, 2014. Alle rechten voorbehouden.

NB: Cito (uitgever van deze toets) heeft ernaar gestreefd de auteursrechten van het in deze toetsen gebruikte materiaal te regelen volgens de wettelijke bepalingen. Wie desondanks meent zekere rechten te kunnen doen gelden, wordt verzocht contact op te nemen via het e-mailadres: toelatingstoetspabo@cito.nl.

vraag 1 Kringloop van het water

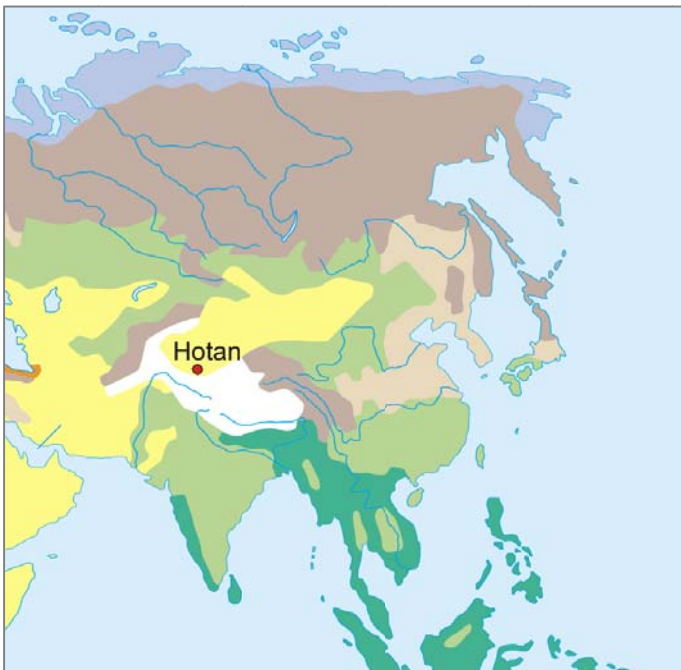


De tekening stelt de kringloop van het water voor.

Waar vindt condensatie plaats?

- A bij 1
- B bij 2
- C bij 3
- D bij 4

vraag 2 Klimaten in een deel van de wereld



Bij deze kaart ontbreekt de legenda.

Wat voor een klimaat heeft de Chinese stad Hotan?

- A hooggebergteklimaat
- B landklimaat
- C woestijnklimaat
- D zeeklimaat

vraag 3 Van de website van Greenpeace

De aarde heeft in haar lange geschiedenis warmere en koudere periodes gekend.
Nu echter leven we in een unieke periode: één soort, de mens, blijkt in staat om het klimaat te veranderen door massaal fossiele brandstoffen te verbranden en oerbossen te vernietigen.

Wat is een gevolg van het handelen van de mens waar in dit artikel naar verwezen wordt?

- A de versnelde afkoeling van de aarde
- B de vervuiling van de bodem
- C het broeikaseffect

vraag 4 Boulevard van Scheveningen (Den Haag)



De boulevard van Scheveningen is enkele meters opgehoogd.
Elders in Nederland zijn maatregelen genomen die hetzelfde doel dienen.

Welke maatregel dient hetzelfde doel?

- A de aanleg van een nieuwe haven bij Rotterdam
- B de aanleg van een stormvloedkering in de Nieuwe Waterweg
- C de bouw van een nieuwe woonwijk in het IJ bij Amsterdam
- D de verbreding van de sluizen in het Noordzeekanaal

vraag 5 Chihuahua



In vak A2 op de kaart ligt de stad Chihuahua.

Wat zijn de geografische coördinaten van deze stad?

- A 28° noorderbreedte en 106° oosterlengte
- B 28° noorderbreedte en 106° westerlengte
- C 28° zuiderbreedte en 106° oosterlengte
- D 28° zuiderbreedte en 106° westerlengte

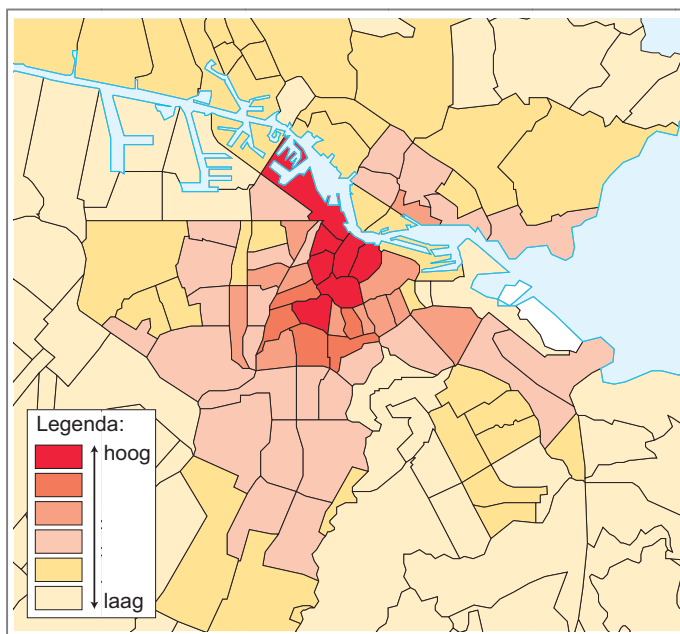
vraag 6 Waterzuiveringsinstallatie in Antwerpen



Wat gebeurt er in deze waterzuiveringsinstallatie?

- A Bij ernstige vervuiling wordt het water van de Schelde hier gezuiverd en terug in de Schelde gepompt.
- B Het afvalwater uit de riolen van Antwerpen wordt hier gezuiverd voordat het in de Schelde komt.
- C Het drinkwater voor Antwerpen krijgt hier een laatste behandeling voordat het in de waterleiding komt.

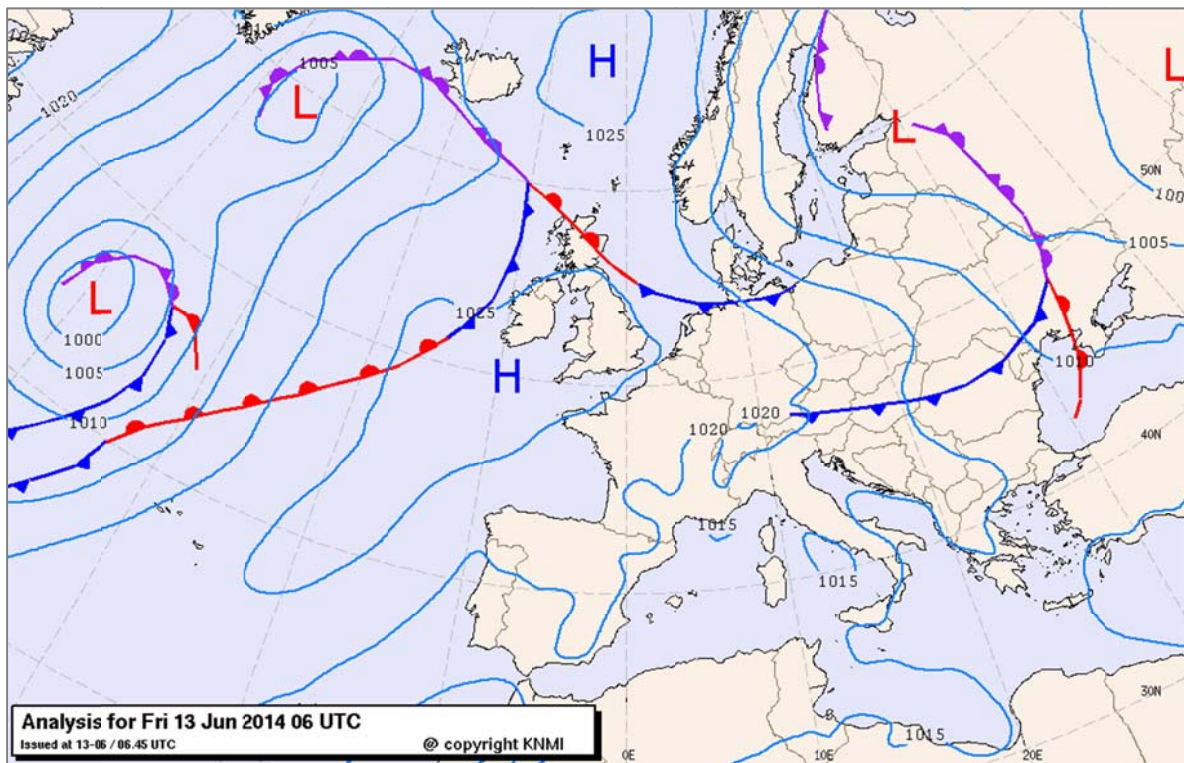
vraag 7 Thematische kaart van Amsterdam



Welk van de volgende thema's brengt deze kaart in beeld?

- A de bevolkingsdichtheid
- B de grondprijzen
- C de oppervlakte bestemd voor groenvoorzieningen
- D het percentage 65-plussers

vraag 8 Weersvoorspelling



In welk van de volgende gebieden op de kaart is de kans op neerslag het grootst?

- A Griekenland
- B Oostenrijk
- C Portugal

vraag 9 Veerdiensten vanuit Zweden

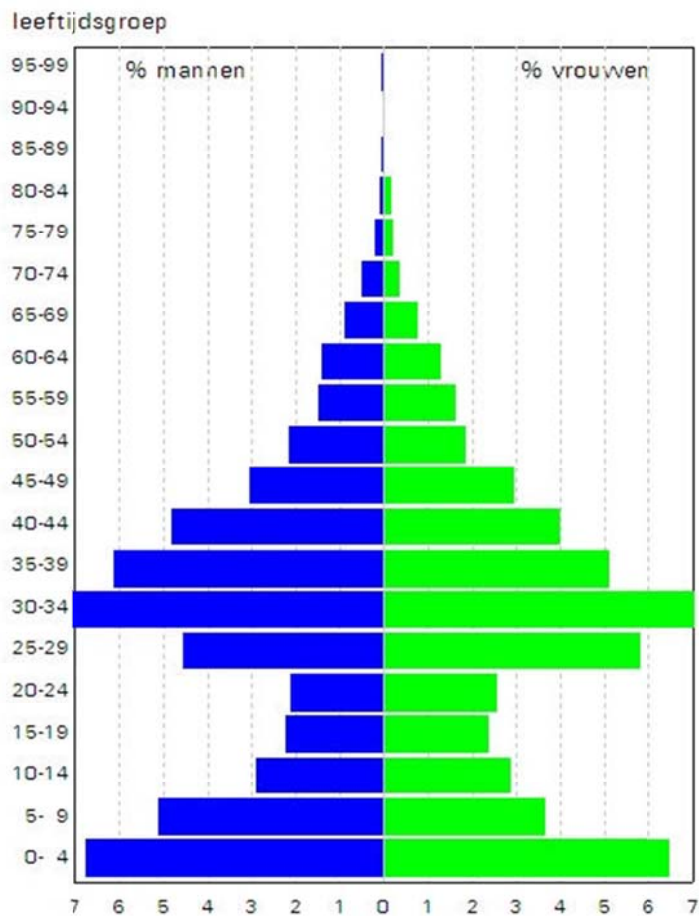


Op de kaart zie je vier veerdiensten vanuit plaatsen in Zweden naar andere landen. Zweden is lid van de Europese Unie.

Met welke veerdienst verlaat je de Europese Unie?

- A met veerdienst 1
- B met veerdienst 2
- C met veerdienst 3
- D met veerdienst 4

vraag 10 Bevolkingspiramide van een wijk (2013)



Hierboven zie je een typische bevolkingspiramide van een wijk in een grote Nederlandse stad.

Welke van de volgende wijken zal dat zijn?

- A** de binnenstad
- B** een nieuwbouwwijk
- C** een woonwijk net buiten het centrum, rond 1910 gebouwd

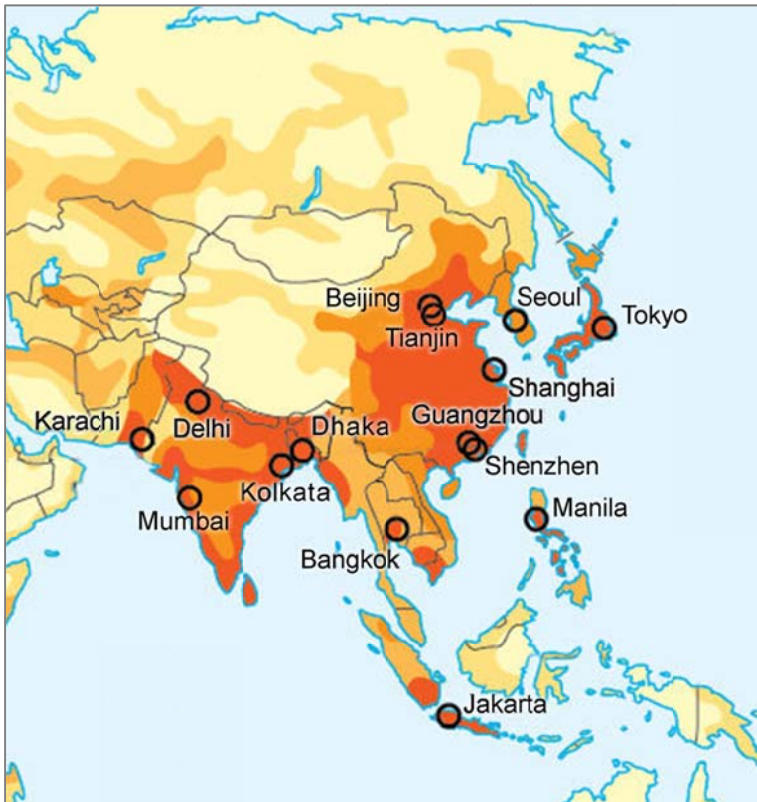
vraag 11 Rio de Janeiro



Welk van de volgende beschrijvingen past het best bij deze foto?

- A** suburbanisatie in Argentinië
- B** suburbanisatie in Brazilië
- C** urbanisatie in Argentinië
- D** urbanisatie in Brazilië

vraag 12 Steden in Zuid- en Oost-Azië

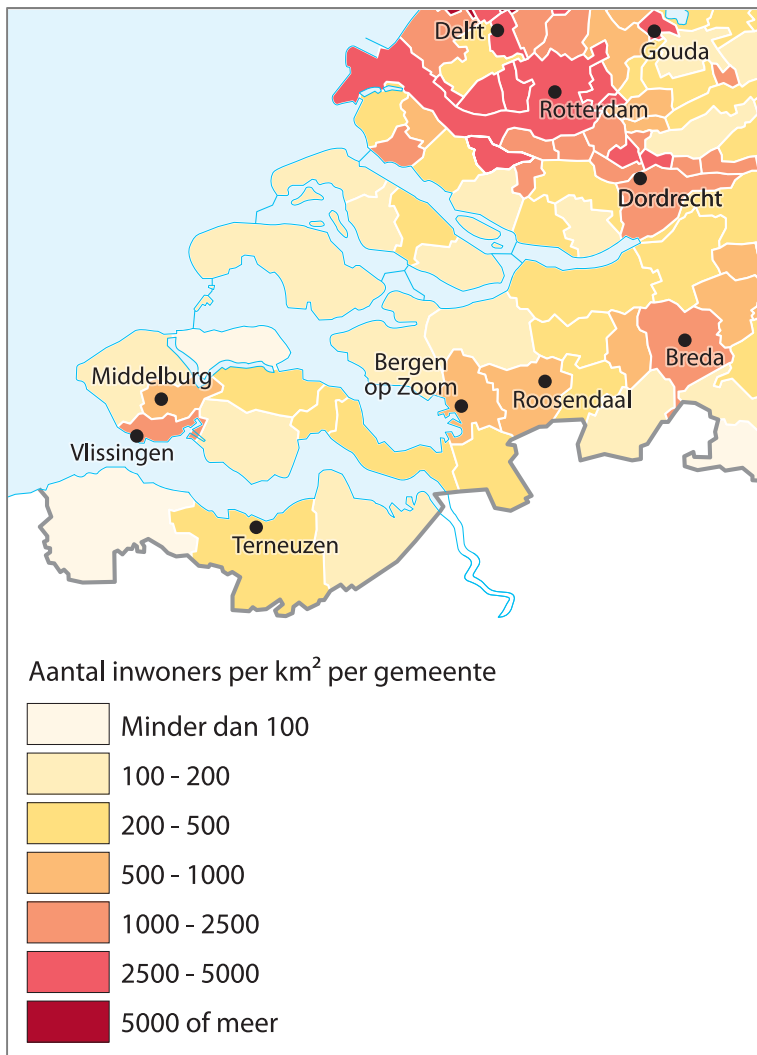


Welke steden zijn op de kaart weergegeven?

Alle steden met ...

- A** meer dan 100.000 inwoners.
- B** meer dan 1 miljoen inwoners.
- C** meer dan 10 miljoen inwoners.
- D** meer dan 50 miljoen inwoners.

vraag 13 Aantal inwoners per km² per gemeente in Zuidwest-Nederland



Op de kaart zie je het aantal inwoners per km² per gemeente in Zuidwest-Nederland.

Hieronder staan drie uitspraken.

Welke van deze drie uitspraken kun je met behulp van de kaart controleren?

- A** De bevolking van de gemeente Rotterdam groeit sneller dan de bevolking van de gemeente Breda.
- B** De dunst bevolkte gemeenten in Zuidwest-Nederland liggen tussen Breda en Middelburg.
- C** De gemeente Vlissingen heeft meer inwoners dan de gemeente Terneuzen.

vraag 14 Raffinaderij bij Marseille



Bij Marseille staat een raffinaderij van Exxon Mobil.

Wat is een belangrijke locatiefactor voor dit bedrijf?

- A Hier kan de grondstof gemakkelijk worden aangevoerd.
- B Hier wordt veel aardolie gewonnen.
- C Hier zijn veel goedkope arbeidskrachten.

vraag 15 Kust bij Domburg (Zeeland)



Op de foto zie je de kust bij Domburg in Zeeland.

Wat is een belangrijk verschil van deze kust met de kust bij Harlingen in Friesland?

Bij de kust bij Harlingen ...

- A is het water zoet.
- B zijn geen duinen.
- C zijn geen getijden.

vraag 16 Grens VS - Mexico



Op de grens van de Verenigde Staten en Mexico staat deze metalen muur. Ze is gebouwd om de illegale migranten uit Mexico tegen te houden.

Wat zijn de belangrijkste motieven voor deze migranten?

- A** economische motieven
- B** politieke motieven
- C** religieuze motieven

vraag 17 Aardbevingen tussen 1900 en 1999

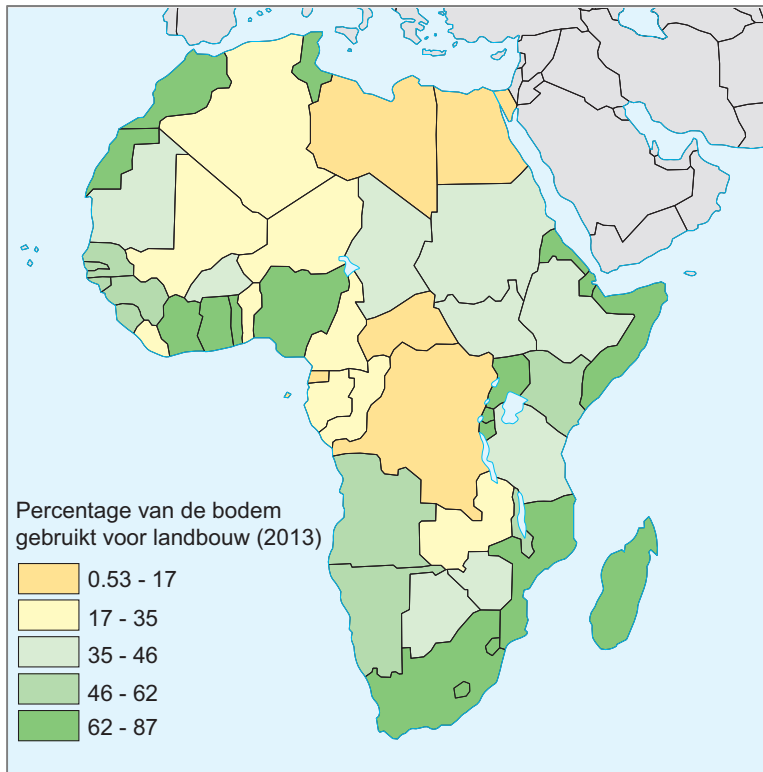


Op de kaart zie je de locaties van alle aardbevingen in de 20e eeuw in een deel van de wereld.

Waar vallen de locaties van de aardbevingen vooral mee samen?

- A** met de gebieden waar veel tsunami's optreden
- B** met de ligging van vulkanische eilanden
- C** met de randen van de aardplaten
- D** met de sterke zeestromen in de oceaan

vraag 18 Afrika - percentage van de bodem gebruikt voor landbouw (2013)



Op de kaart zie je het percentage van de bodem in het land dat gebruikt wordt voor de landbouw.

Hoe verklaar je het lage cijfer voor Kongo?

Een groot deel van het land bestaat uit ...

- A** hooggebergte.
- B** tropisch bos.
- C** woestijn.

vraag 19 Grensplaatsen in Polen

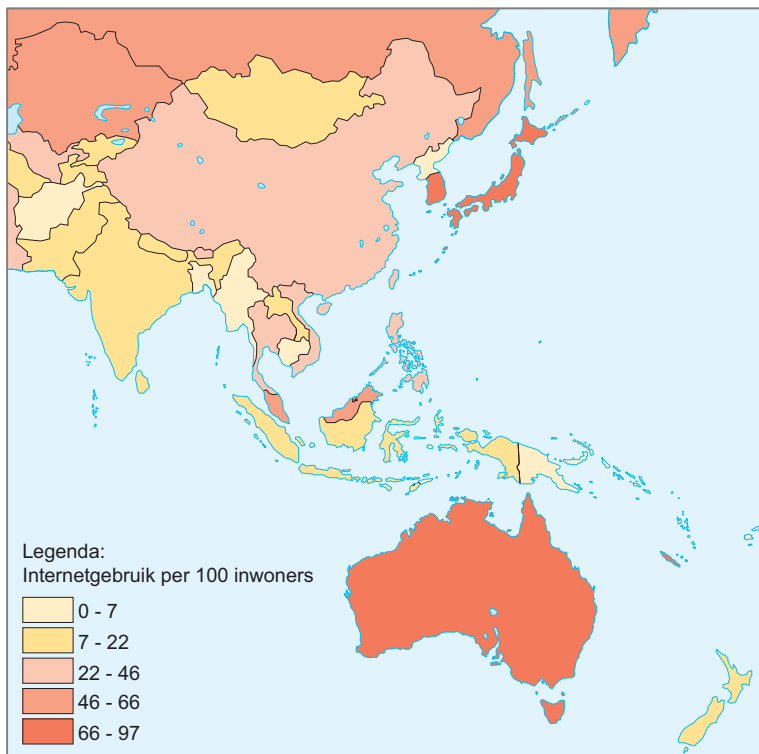


In Polen zijn sinds 2004 veel bewaakte grensovergangen verdwenen.

Bij welke grensstad op de kaart wordt het verkeer nog streng gecontroleerd?

- A** bij Chalupki
- B** bij Świecko
- C** bij Terespol

vraag 20 Aantal internetgebruikers per 100 inwoners



Jannie heeft deze kaart van het aantal internetgebruikers per 100 inwoners gemaakt.
Eén land heeft zij verkeerd ingekleurd.

Welke van de volgende landen zal dat zijn?

- A** China
- B** Indonesië
- C** Japan
- D** Nieuw-Zeeland

vraag 21 Bevolkingsdichtheid



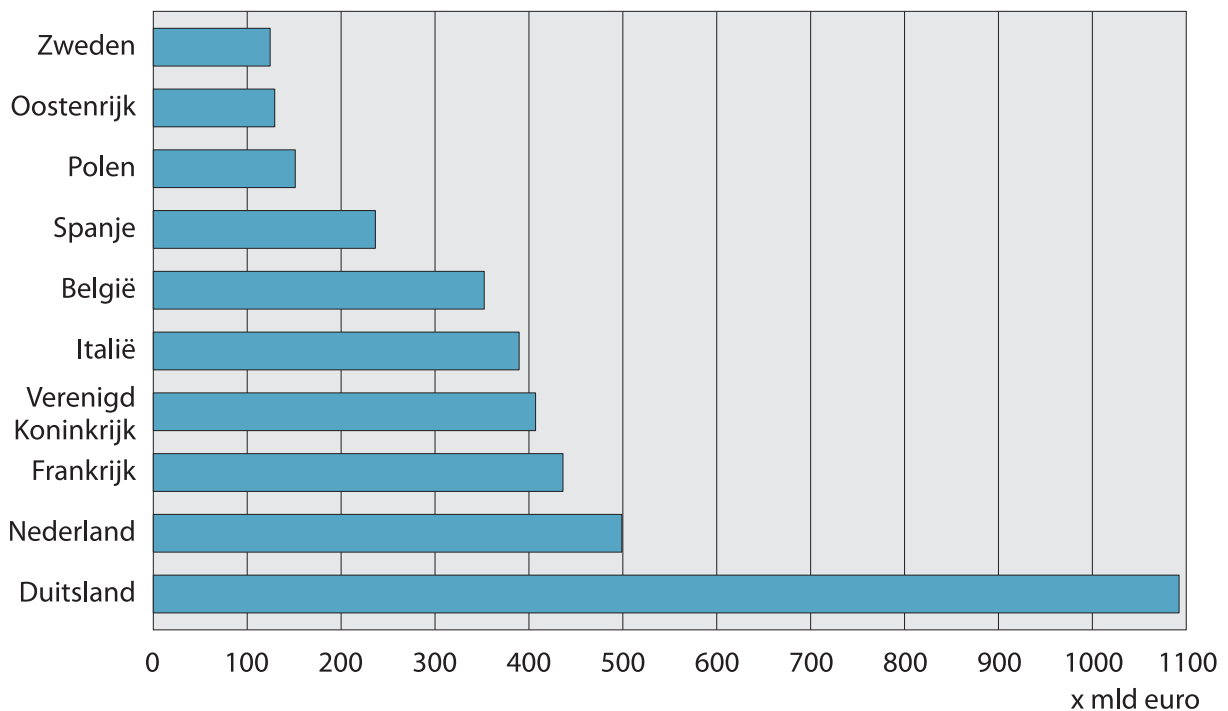
De kaart laat de bevolkingsdichtheid in een deel van Europa zien: hoe donkerder, hoe groter de bevolkingsdichtheid.

Welke kaart uit de atlas kun je het best gebruiken als je de geringe bevolkingsdichtheid bij X op de kaart wilt verklaren?

De kaart ...

- A** 'Gemiddelde neerslag in Finland'.
- B** 'Gemiddelde neerslag in Rusland'.
- C** 'Gemiddelde temperatuur in Finland'.
- D** 'Gemiddelde temperatuur in Rusland'.

vraag 22 Top 10 EU-landen met de meeste export van goederen (2013)




In deze grafiek zie je de Top 10 EU-landen met de meeste export van goederen.

Hoe verklaar je de relatief hoge positie van Nederland op de ranglijst?

- A** De lonen in Nederland zijn relatief laag, waardoor er in het buitenland veel vraag is naar de goedkope Nederlandse producten.
- B** Nederland heeft belangrijke hightechindustrieën die veel goederen verkopen aan andere landen op de wereld.
- C** Veel goederen die Nederland invoert, worden direct weer uitgevoerd naar een ander land in Europa.

vraag 23 Maeslantkering



Tussen Rotterdam en de Noordzee ligt de Maeslantkering. De Maeslantkering heeft beweegbare dammen waarmee het water kan worden afgesloten.

Wanneer zal de kering gesloten worden?

- A Als het rivierwater sterk vervuild is en men wil voorkomen dat het vuile water de Noordzee in stroomt.
- B Als het water in de Noordzee erg hoog staat en men wil voorkomen dat het land overstroomt.
- C Als het water in de rivieren erg laag staat en men de waterstand voor de scheepvaart op peil wil houden.
- D Als het water van de Noordzee sterkt vervuild is en men wil voorkomen dat het vuile water landinwaarts stroomt.

vraag 24 Landbouw in Arizona (VS)



Waar in Arizona is deze foto genomen?

- A aan de kust, waar een vochtige zeewind waait
- B aan de voet van de bergen, waar in de zomer de sneeuw smelt
- C in het gedeelte van de woestijn, waar een aquifer is

vraag 25 Dommel in Eindhoven



Eindhoven ligt in het stroomgebied van de rivier de Dommel.

Van welk groter stroomgebied is het stroomgebied van de Dommel een onderdeel?

Van het stroomgebied van de ...

- A** IJssel.
- B** Maas.
- C** Rijn.
- D** Schelde.

vraag 26 Alfabetiseringsgraad

Achttien landen zijn in twee groepen verdeeld. Daarbij is gekeken naar de alfabetiseringsgraad.

groep 1	groep 2
Afghanistan	Chili
Egypte	Finland
Ethiopië	Frankrijk
India	Hongarije
Irak	Japan
Kongo	Rusland
Pakistan	Tsjechië
Saudi-Arabië	Zuid-Korea
Sudan	Zwitserland

Welke gegevens passen het best boven de groepen?

- A** groep 1 = landen met 28% - 87% analfabeten
groep 2 = landen met 11% - 29% analfabeten
- B** groep 1 = landen met 11% - 29% analfabeten
groep 2 = landen met 28% - 87% analfabeten
- C** groep 1 = landen met 0% - 1% analfabeten
groep 2 = landen met 13% - 72% analfabeten
- D** groep 1 = landen met 13% - 72% analfabeten
groep 2 = landen met 0% - 1% analfabeten

vraag 27 Grondstofprijzen

Verdere daling grondstofprijzen verwacht

1 mei 2014 - Volgens ABN AMRO zullen de prijzen van landbouwproducten en ertsen op de wereldmarkt verder dalen.

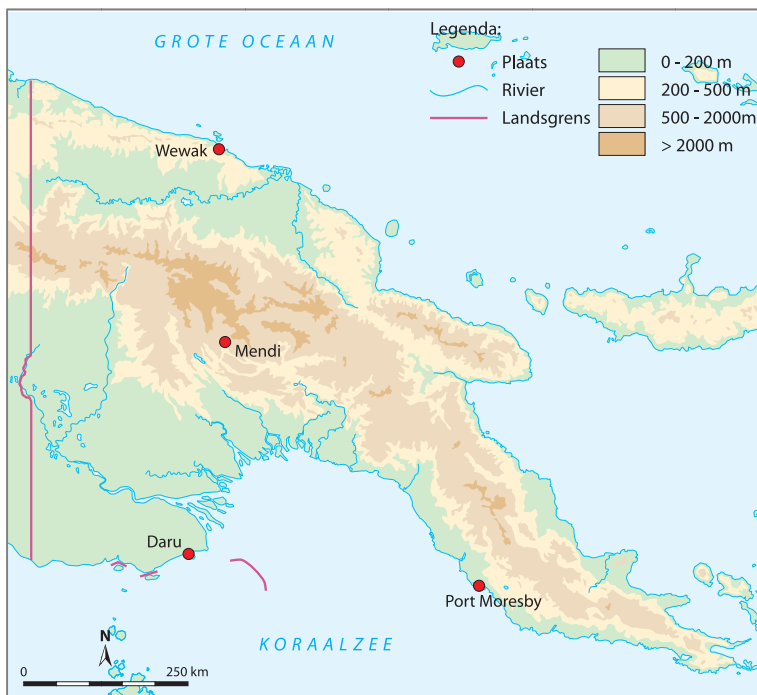
Deze ontwikkeling heeft invloed op de ruilvoet. Voor sommige landen zal de ruilvoet verbeteren, voor andere landen verslechteren.

Voor welke van de volgende groepen van landen zal de ruilvoet het meest verslechteren?

Voor de landen die ...

- A** veel grondstoffen exporteren en veel industrieproducten importeren.
- B** veel grondstoffen exporteren en weinig industrieproducten importeren.
- C** weinig grondstoffen exporteren en weinig industrieproducten importeren.
- D** weinig grondstoffen exporteren en veel industrieproducten importeren.

vraag 28 Papua-Nieuw-Guinea

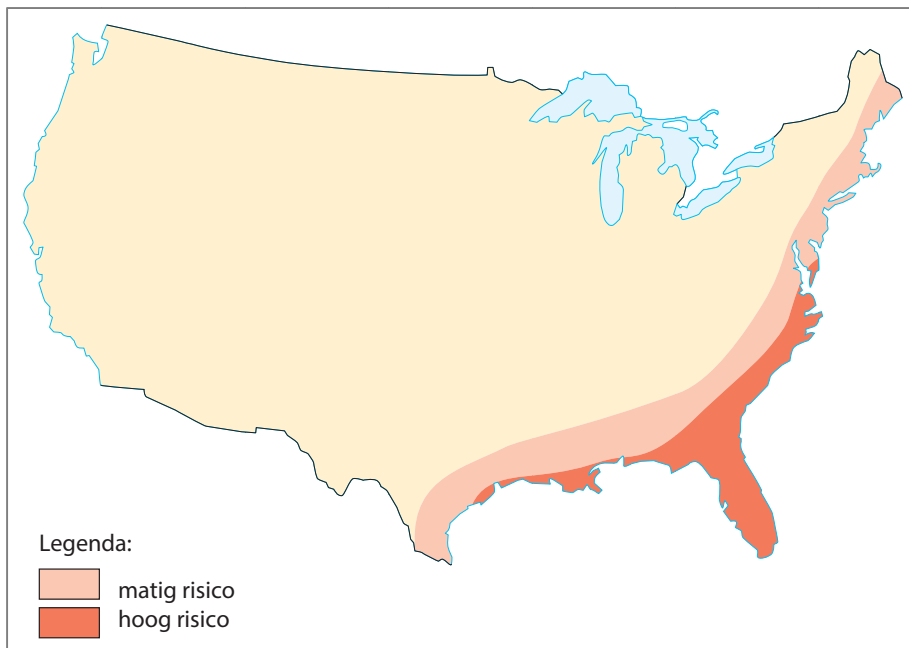


In 1998 kwamen 2100 mensen om bij een tsunami die Papua-Nieuw-Guinea trof. In dit deel van de wereld komen regelmatig tsunami's voor.

Welke van de volgende plaatsen in het land loopt het grootste risico op een tsunami?

- A** Daru
- B** Mendi
- C** Port Moresby
- D** Wewak

vraag 29 Natuurramp in de Verenigde Staten

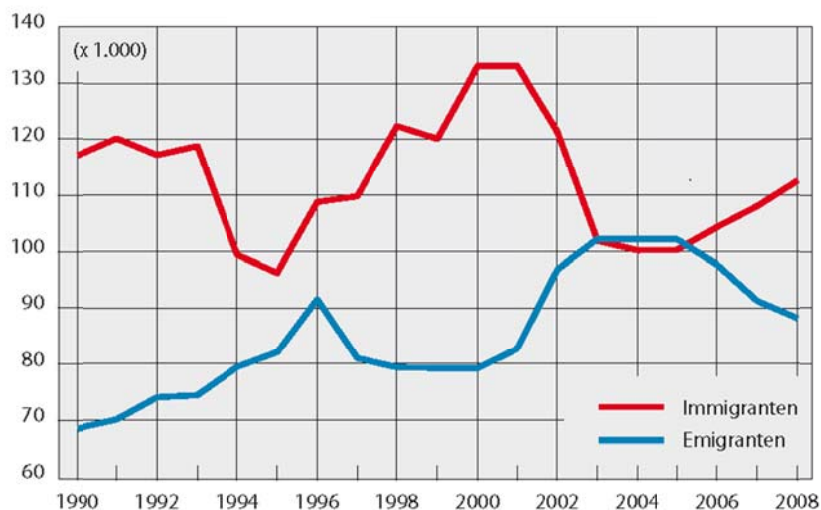


Op de kaart zie je gebieden in de Verenigde Staten met een hoog risico en een matig risico voor één bepaalde natuurramp.

Welke natuurramp zal dat zijn?

- A een aardbeving
- B een orkaan
- C een tornado
- D een vulkaanuitbarsting

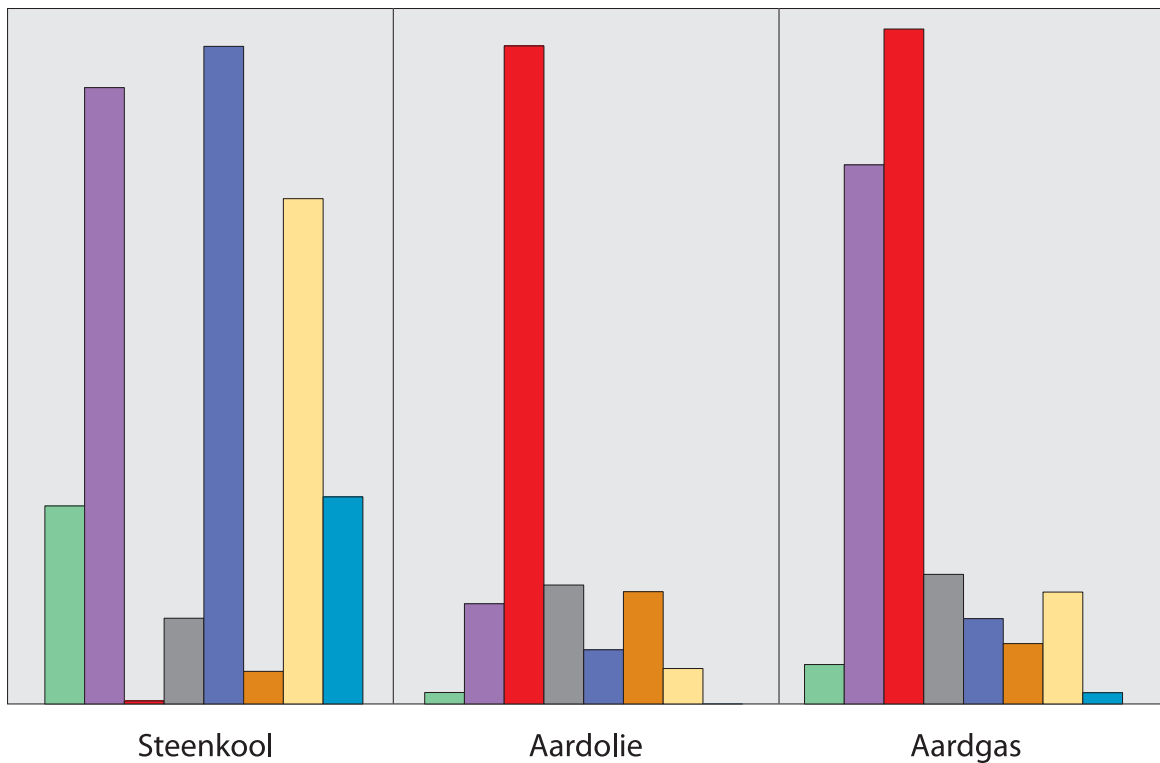
vraag 30 Ontwikkeling migratie Nederland



In welke van de volgende jaren was er een migratietekort?

- A in 1990
- B in 2000
- C in 2004

vraag 31 Voorraden van drie energiebronnen (2012)



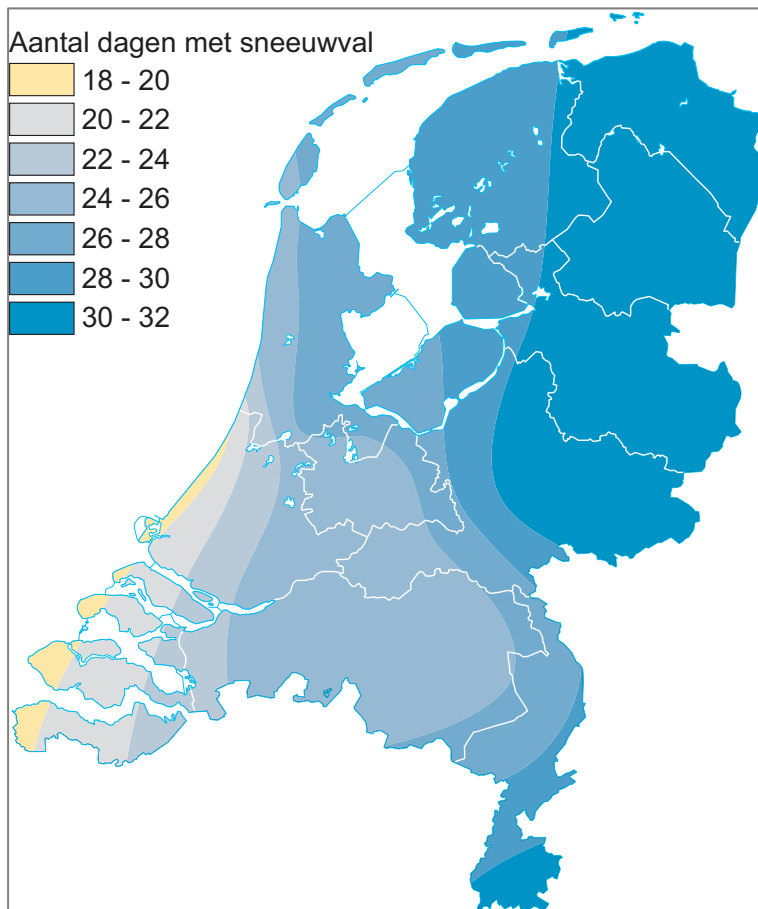
In de grafiek zie je de relatieve verhoudingen in de voorraden steenkool, aardolie en aardgas in acht regio's op de wereld.

Het zijn alfabetisch geordend de volgende regio's: Afrika, Midden-Oosten, Noord-Amerika, Oceanië, Oost- en Zuid-Azië, Oost-Europa en Centraal Azië, West- en Midden-Europa en Zuid-Amerika.

Met welke kleur is de regio Midden-Oosten aangegeven?

- A** met blauw
- B** met bruin
- C** met geel
- D** met rood

vraag 32 Sneeuw

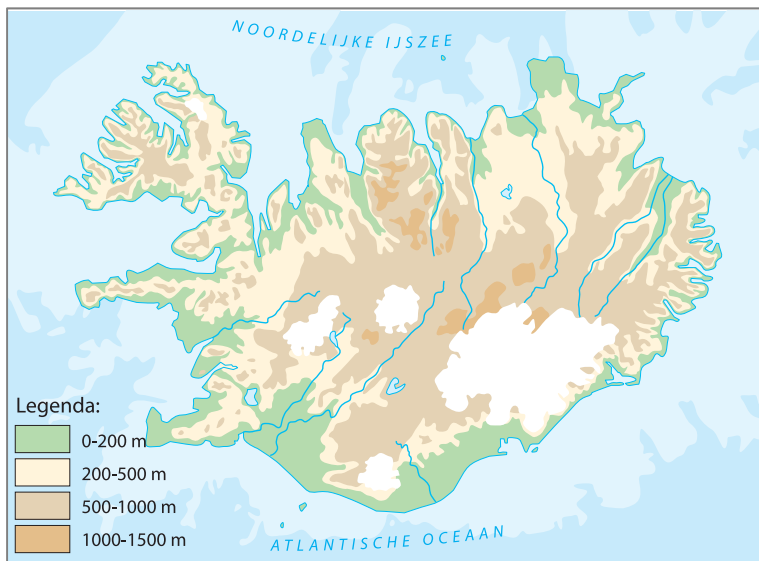


Op het kaartje zie je hoe vaak het sneeuwt in Nederland: er zijn grote verschillen in Nederland.

Welke factor speelt bij de verklaring van deze verschillen de belangrijkste rol?

- A** de hoogteligging
- B** de invloed van de zee
- C** de windkracht

vraag 33 IJsland

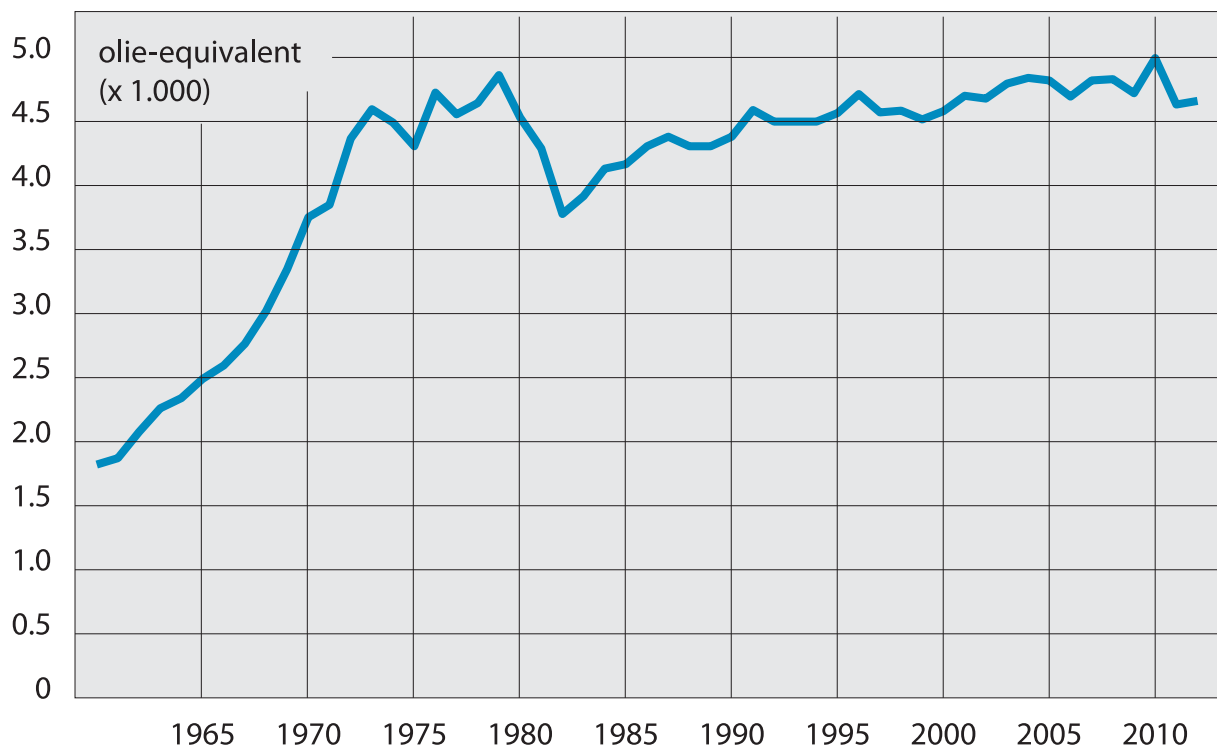


In IJsland is veel reliëf.

Welke gebeurtenissen in de geologische geschiedenis van het land hebben hier voor een belangrijk deel toe bijgedragen?

- A** Bij overstromingen heeft de zee grote delen van de kust weggeslagen.
- B** Het landijs heeft het zand opgestuwd tot hoge stuwwallen.
- C** Schuivende aardplaten hebben delen van het land opgetild.

vraag 34 Energieverbruik p/ h in Nederland



Door een aantal ontwikkelingen is het energieverbruik in Nederland nauwelijks gestegen vanaf 1990.

Welke ontwikkeling hoort daar bij?

Vanaf 1990 ...

- A kwam de bevolkingsgroei tot stilstand.
- B nam de welvaart af.
- C werd meer energie geëxporteerd.
- D werden energiebesparende maatregelen genomen.

vraag 35 Haven van Narvik (Noorwegen)



Narvik ligt in het noorden van Noorwegen.
De haven van Narvik is het gehele jaar ijsvrij.

Waardoor is de haven van Narvik het gehele jaar ijsvrij?

- A** De haven ligt in een fjord en daardoor beschut tegen koude wind van zee.
- B** Er is een warme zeestroom voor de kust bij Narvik.
- C** Narvik ligt in een vulkanisch gebied met magma vlak onder de oppervlakte.

vraag 36 Klimaten



Op de afbeelding zie je een deel van de kaart 'Klimaten' uit de Bosatlas. In de gebieden rondom de steden Addis Abeba en Nairobi gaat het savanneklimaat over in een gematigd klimaat.

Welk kenmerk van de gebieden rondom Addis Abeba en Nairobi is belangrijk bij de verklaring van de overgang naar een gematigd klimaat?

- A de afstand tot de evenaar
- B de hoogteligging
- C de ligging ten opzichte van de Indische Oceaan

vraag 37 Shikine (Japan)



Shikine is een eiland voor de kust bij Tokyo in Japan. De gemiddelde temperatuur van de lucht in dit deel van Japan is 16° Celsius. Toch kun je in het meer van Shikine het hele jaar zwemmen in aangenaam warm water.

Met welk begrip kun je het voorkomen van warm water op deze plek verklaren?

- A** exogene kracht
- B** tropisch klimaat
- C** vulkanisme
- D** warme zeestroom

vraag 38 Peilschaal

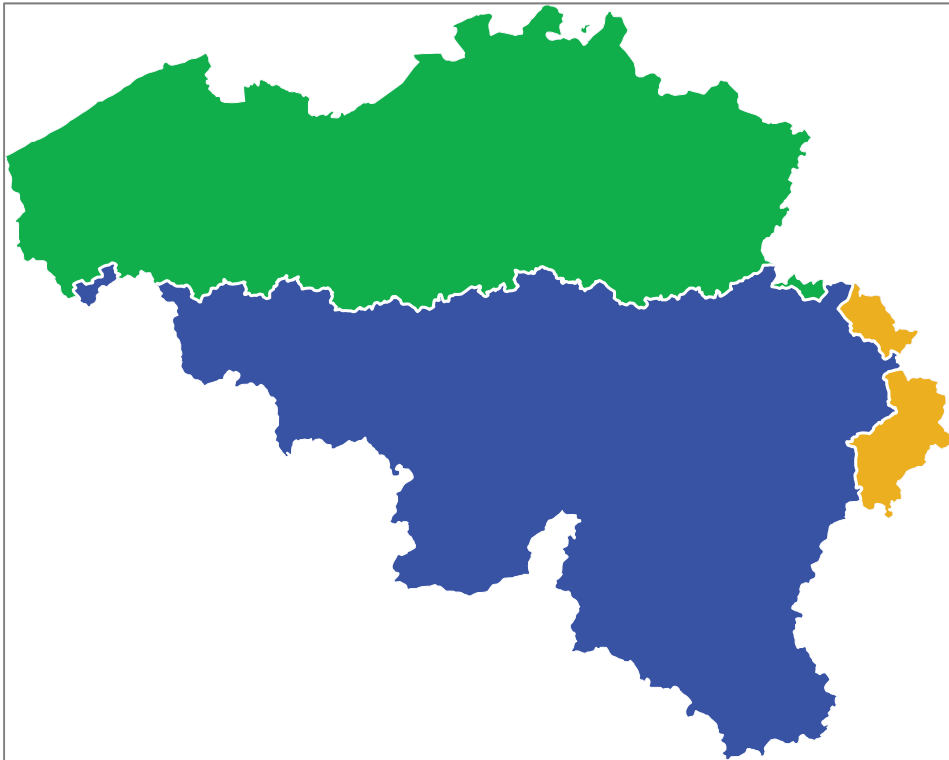


In het Waterschap 'De Stichtse Rijnlanden' staat deze peilschaal.

Welke uitspraak past het best bij de peilschaal?

- A** Er is hier sinds de vorige peiling ongeveer 190 centimeter regen gevallen
- B** Er is hier sinds de vorige peiling ongeveer 190 millimeter regen gevallen
- C** Het water staat hier ongeveer 190 centimeter boven zeeniveau
- D** Het water staat hier ongeveer 190 centimeter onder zeeniveau

vraag 39 Kaart van België

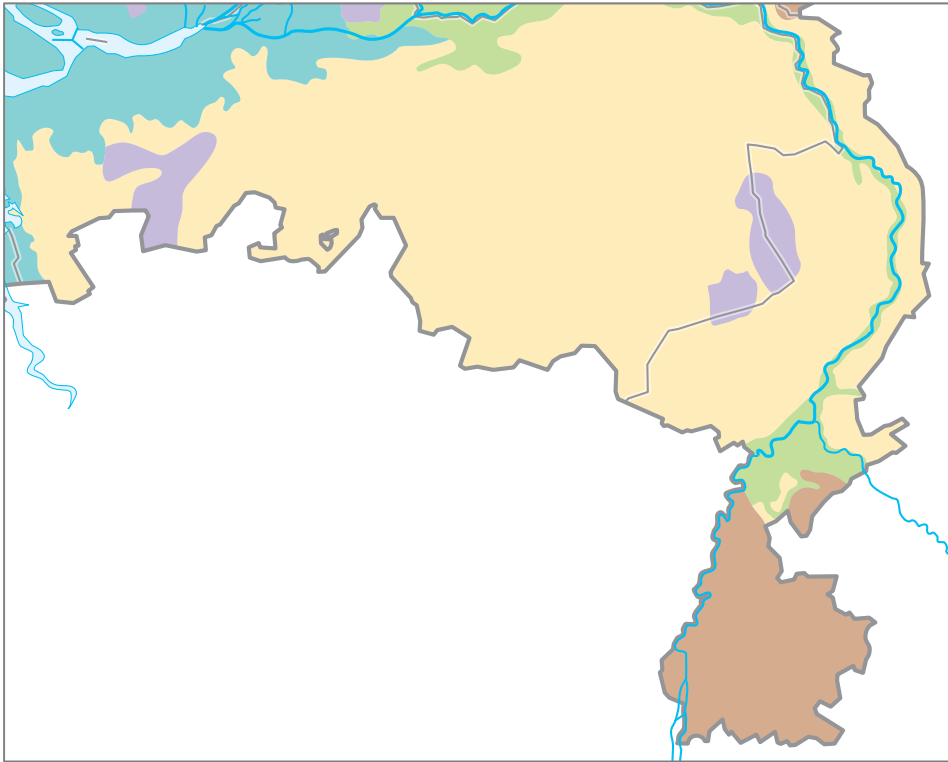


Op de kaart is België opgedeeld in deelgebieden.

Waarin onderscheiden de gebieden zich vooral?

- A** in de dichtheid van de bevolking
- B** in de ligging ten opzicht van het zeeniveau
- C** in de taal die er gesproken wordt
- D** in het gemiddeld inkomen per hoofd van de bevolking

vraag 40 Landschappen in Zuidoost Nederland



Welk type landschap is met een paarse kleur weergegeven?

- A** lösslandschap
- B** rivierkleilandschap
- C** veenlandschap
- D** zandlandschap

vraag 41 Wereldreligies in Zuidoost-Azië



Op de kaart is de belangrijkste religie in een land met een kleur aangegeven.

Met welke kleur wordt de islam aangegeven?

- A** blauw
- B** groen
- C** oranje
- D** paars

vraag 42 Deel van de Maasvlakte



Voor de kust van Zuid-Holland is de Maasvlakte aangelegd.

Wat was de belangrijkste aanleiding voor de aanleg van dit gebied?

- A** de behoefte aan een geschikte locatie voor windmolenparken
- B** het tekort aan havens; met name havens voor grote schepen
- C** het tekort aan natuur- en recreatiegebieden in de Randstad
- D** het tekort aan opslagruimte voor het slib dat verzameld werd bij het uitbaggeren van de Nieuwe Waterweg en het Noordzeekanaal

vraag 43 Riviertje de Dinkel (Overijssel)

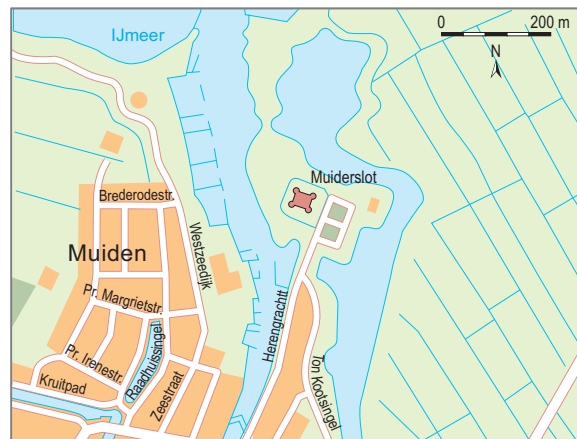


Het zand langs de rivier is hier weggespoeld.

Hoe noemen we dit proces?

- A** erosie
- B** sedimentatie
- C** verwerking

vraag 44 Landschap bij Muiden

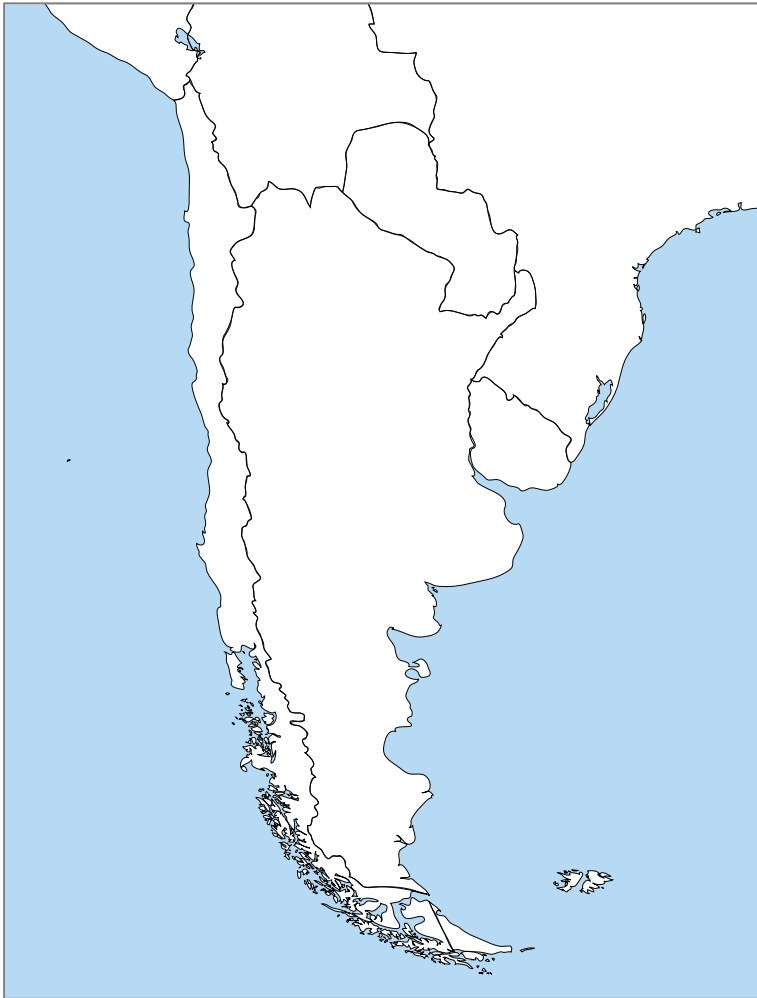


In het gebied ten oosten van Muiden is veeteelt van oudsher het belangrijkste grondgebruik.

Welk kenmerk van dit gebied speelt hierbij een belangrijke rol?

- A** de gunstige ligging aan de oever van diep vaarwater
- B** de hoge grondwaterstand
- C** de vruchtbare bodem

vraag 45 Grens tussen Argentinië en Chili



Op de kaart zie je de grenzen van landen in een deel van Zuid-Amerika.

Waarmee valt de politieke grens tussen Argentinië en Chili samen?

- A** met de grens tussen twee cultuurgebieden
- B** met een natuurlijke grens
- C** met een taalgrens

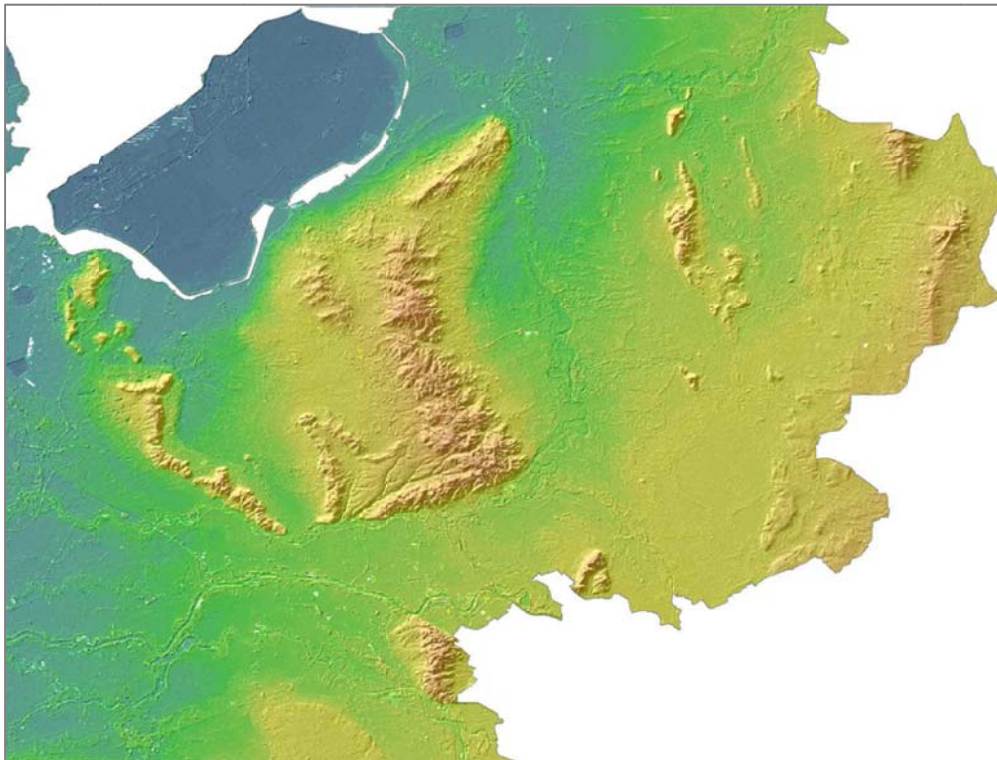
vraag 46 Luchtvervuiling in China

Deze eeuw is de luchtvervuiling in delen van China sterk toegenomen.

Waar hangt de toename vooral mee samen?

- A** met de opwarming van de aarde door het broeikaseffect
- B** met de stijging van de welvaart in China
- C** met de toename van het aantal inwoners in China

vraag 47 Reliëf in een deel van Nederland



Op de kaart zijn duidelijk de verhogingen te zien, die hier ongeveer 200.000 jaar geleden ontstonden.

Door welke gebeurtenis zijn de verhogingen ontstaan?

- A** De zee overstroomde het land.
- B** Een harde wind blies over het land.
- C** Landijs schoof over het land.

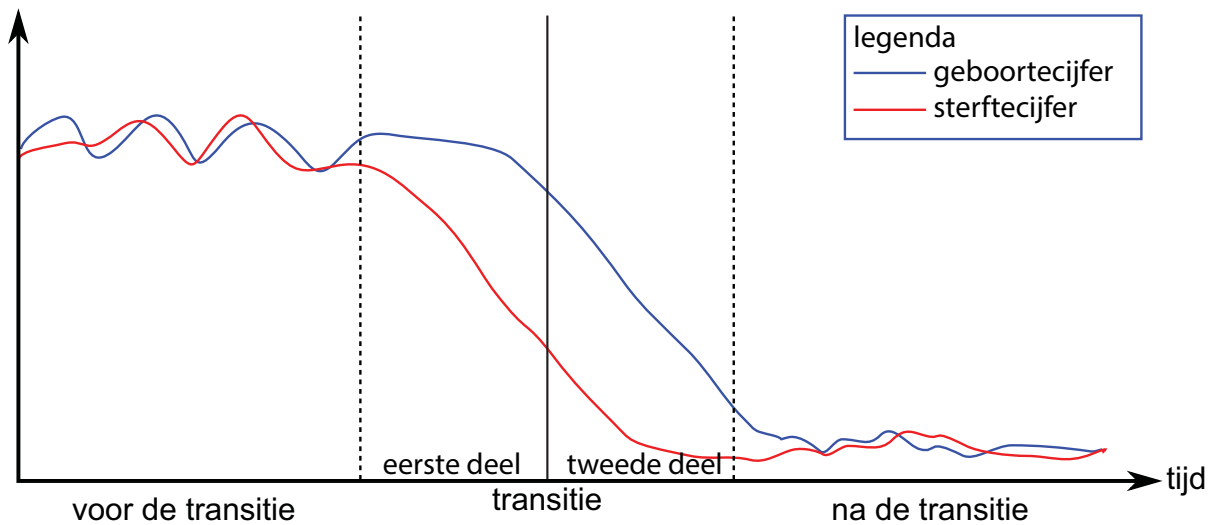
vraag 48 Platen

Op de grens van de Indische plaat en de Euraziatische plaat is het Himalayagebergte ontstaan.

Welke krachten spelen hierbij een belangrijke rol?

- A De ene plaat schuift onder de andere plaat en tilt deze op.
- B Langs breuken in de platen ontstaan horsten en slenken.
- C Op zwakke plekken in de platen ontstaan aardbevingen en vulkanen.

vraag 49 Demografische transitie



Op de tekening zie je het model van de bevolkingsgroei zoals de meeste landen die doorlopen.

Het West-Afrikaanse land Ghana heeft een geboortecijfer van 32 ‰ en een sterftecijfer van 7 ‰.

In welke fase van de demografische transitie is Ghana?

- A in de pre-transitie fase
- B in het eerste deel van de transitiefase
- C in het tweede deel van de transitiefase
- D in de post-transitie fase

vraag 50 Panamakanaal

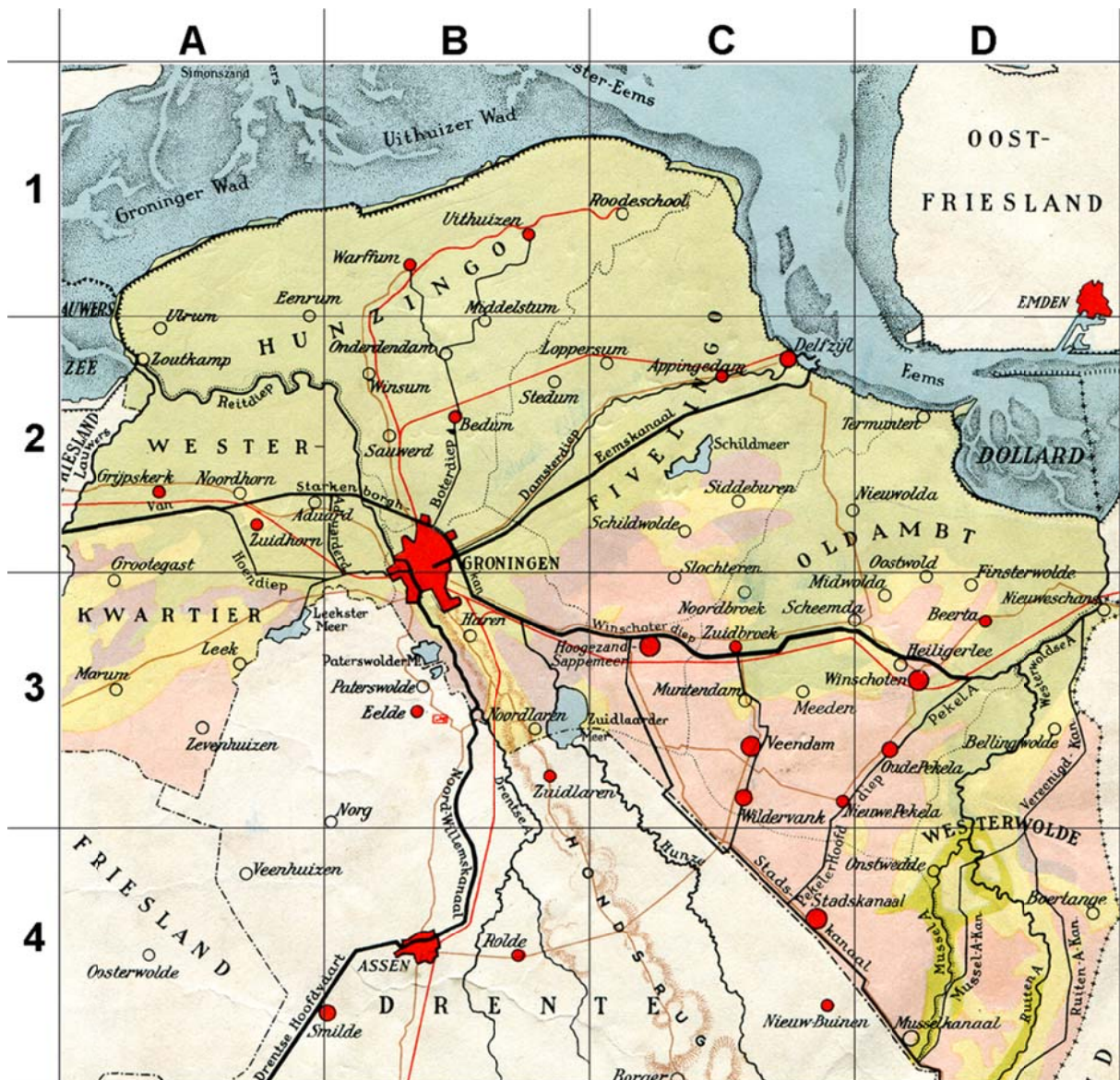


Niet alleen voor Panama zelf is het economisch belang van het Panamakanaal groot; ook andere gebieden profiteren van het kanaal.

Waardoor vooral?

- A** Het kanaal vormt de toegangspoort voor toeristen naar Midden- en Zuid-Amerika.
- B** Het kanaal vormt de verbinding tussen de Stille Oceaan en het oosten van de VS.
- C** Via het kanaal worden de delfstoffen naar landen in Midden-Amerika geëxporteerd.

vraag 51 Provincie Groningen in 1961



Op de afbeelding zie je de kaart van de provincie Groningen uit een schoolatlas uit 1961. Alle plaatsen op de kaart zijn sindsdien sterk gegroeid.

Welke van de volgende plaatsen op de kaart is vooral gegroeid door suburbanisatie?

- A Delfzijl (vak C2)
- B Groningen-stad (vak B2)
- C Haren (vak B3)
- D Nieuweschans (vak D3)

vraag 52 Economische driehoek in Italië

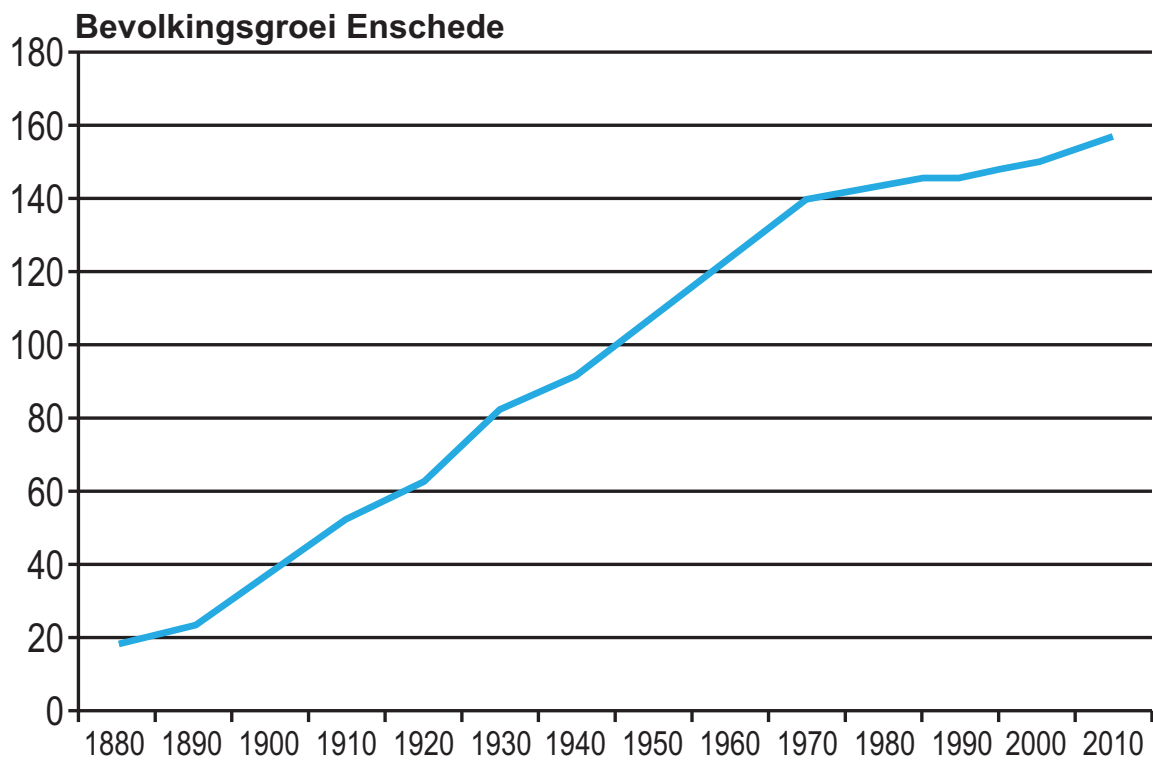


Drie steden in Italië vormen tezamen het belangrijkste economische gebied van het land.

Welke steden vormen deze economische driehoek?

- A** Genua - Turijn - Milaan
- B** Palermo - Messina - Catania
- C** Rome - Pescara - Napels

vraag 53 Bevolkingsgroei Enschede

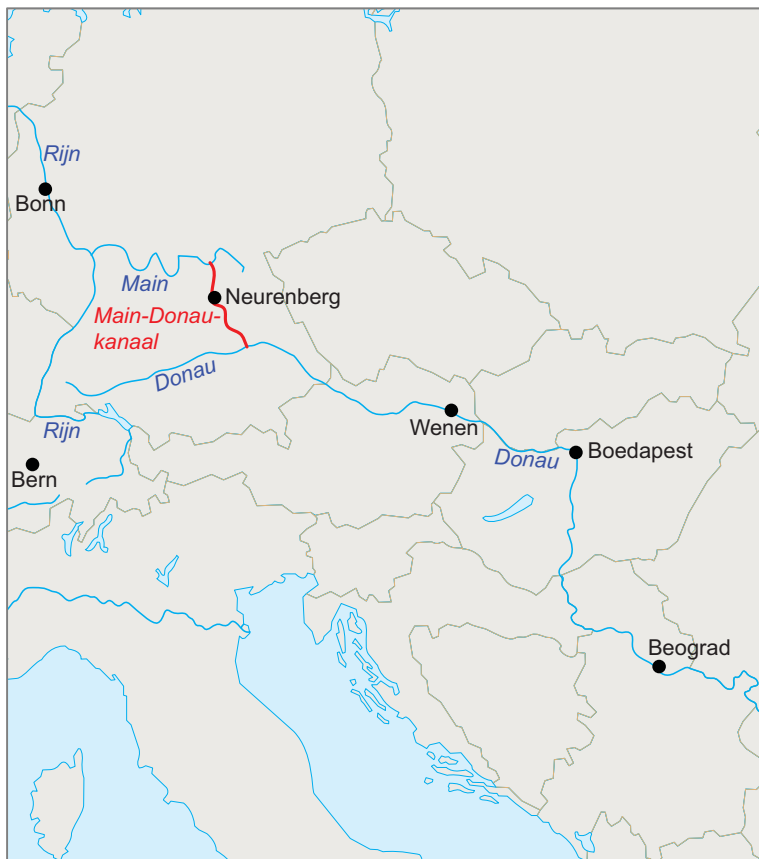


Tussen 1880 en 1910 groeide de bevolking van Enschede voor een belangrijk deel door migratie.

Waar kwamen de meeste migranten vandaan?

- A** uit arme landen in Europa
- B** uit de Randstad
- C** uit het omringende platteland

vraag 54 Main-Donau-kanaal



Tussen de Main en de Donau ligt sinds 1992 het Main-Donau-kanaal.

Voor welke belangrijke Europese havenstad werd door de aanleg van het kanaal het afzetgebied sterk vergroot?

- A voor Londen
- B voor Marseille
- C voor Rotterdam
- D voor Sint Petersburg

vraag 55 Officiële talen in Zuid-Amerika



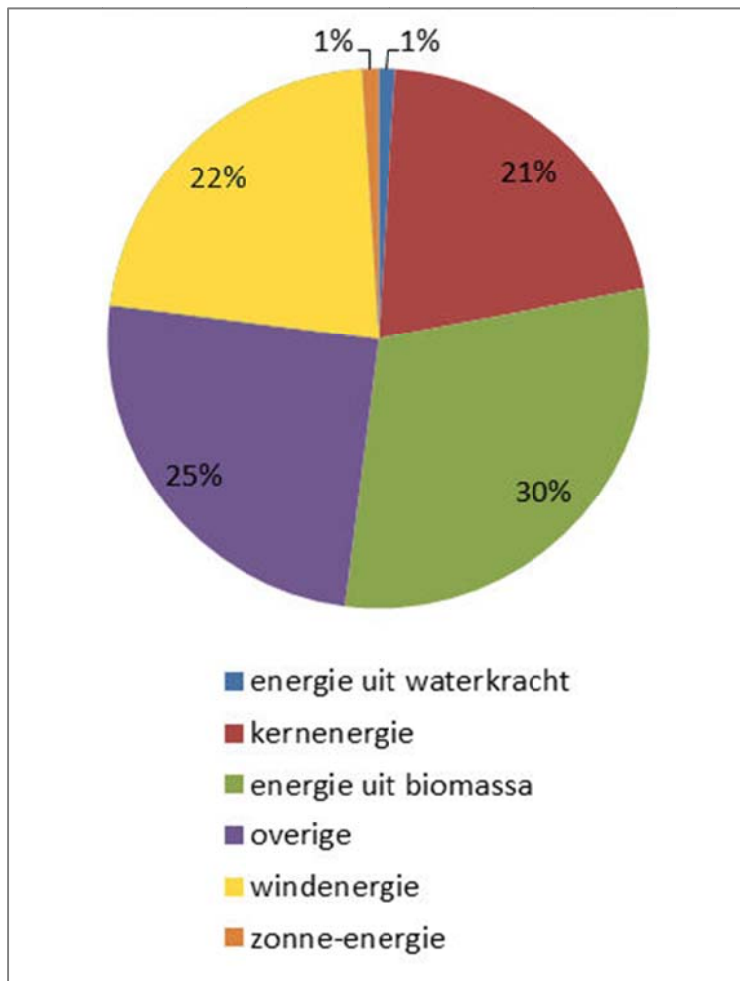
Dano vertelt over zijn land.

"Ik woon in Callao, een grote haven aan de Stille Oceaan. Hier spreken de meeste mensen Spaans. Maar het is niet de enige officiële taal in ons land. Veel indianen in het hoger gelegen gedeelte van ons land spreken Quechua of Aymara."

Uit welk land komt Dano?

- A uit Chili
- B uit Colombia
- C uit Peru
- D uit Venezuela

vraag 56 Duurzame energie in Nederland (CBS, 2008)



Het aandeel van waterkracht in de productie van duurzame energie in Nederland is klein, vergeleken met bijvoorbeeld Noorwegen en Zweden.

Hoe komt dat vooral?

In Nederland ...

- A** is het rivierwater sterk vervuild.
- B** is weinig reliëf.
- C** zijn weinig grote rivieren.

vraag 57 Vier schepen



Op de kaart zie je de routes van vier schepen. Ze legden de route af in de maand februari. Eén van deze schepen had veel last van ijsgang.

Welk schip zal dat geweest zijn?

- A schip 1
- B schip 2
- C schip 3
- D schip 4

vraag 58 Twee wateren



Op de kaart zie je de ligging van twee belangrijke wateren: de Bosporus bij 1 op de kaart en het Suezkanaal bij 2 op de kaart.

Het zijn behalve belangrijke waterwegen ook belangrijke grenzen. Waartussen?

- A tussen werelddelen
- B tussen cultuurgebieden
- C tussen landen

vraag 59 Nederland en Polen

Vergelijk de economische situatie van Nederland met die van Polen.

Wat is een belangrijk verschil?

- A** Het BNP p/h van Polen is lager dan dat van Nederland.
- B** In Polen werkt een kleiner deel van de beroepsbevolking in de landbouw dan in Nederland.
- C** Polen heeft geen zeehavens, Nederland wel.
- D** Polen is geen lid van de EU, Nederland wel.

vraag 60 Informele sector

In welk van de volgende landen zal het percentage volwassenen dat in de informele sector werkt het hoogst zijn?

- A** in Argentinië
- B** in Canada
- C** in Indonesië
- D** in Roemenië

einde