

voorbeeld toelatingstoets pabo 2015

Aardrijkskunde

toetsinformatie

aantal opgaven: 60 meerkeuzevragen

afnameduur 90 minuten

(met een dyslexieverklaring: 30 minuten verlenging)

toetsresultaat

Je kunt de gemaakte voorbeeld toelatingstoets pabo Aardrijkskunde nakijken met behulp van het Aardrijkskunde antwoordbestand. Het aantal goed beantwoorde opgaven bepaalt je totaalscore op de voorbeeldtoets.

Het is nog niet mogelijk om aan te geven met welke score je geslaagd zou zijn voor een toelatingstoets pabo, omdat de grens voldoende / onvoldoende voor de toelatingstoetsen nog niet is vastgesteld.

De voorlopige richtlijn op de voorbeeldtoets toelatingstoets Aardrijkskunde is: geslaagd bij 40 van de 60 opgaven goed.

LET OP: aan dit aantal opgaven goed kan voor de toelatingstoets pabo Aardrijkskunde geen enkel recht ontleend worden.

Deze toets is in opdracht van de MBO Raad ontwikkeld door Cito.

© MBO Raad, 2015. Alle rechten voorbehouden.

NB: Cito (uitgever van deze toets) heeft ernaar gestreefd de auteursrechten van het in deze toetsen gebruikte materiaal te regelen volgens de wettelijke bepalingen. Wie desondanks meent zekere rechten te kunnen doen gelden, wordt verzocht contact op te nemen via het e-mailadres: toelatingstoetspabo@cito.nl.

vraag 1 Lijn op een kaart



Op de kaart zie je een rode lijn.

Welke omschrijving past het best bij deze lijn?

- A** een meridiaan op het oostelijk halfrond
- B** een meridiaan op het westelijk halfrond
- C** een parallel op het oostelijke halfrond
- D** een parallel op het westelijke halfrond

vraag 2 Tijdsverschil



Op de kaart zie je de ligging van de plaatsen Rovaniemi en Karasjok. Ze liggen allebei op ongeveer 26° oosterlengte. Veel plaatsen op deze lengtegraad hebben dezelfde tijd. Maar als je van Karasjok naar Rovaniemi reist, moet je de klok één uur vooruit zetten.

Hoe verklaar je dat verschil?

- A** In Karasjok komt de zon eerder op dan in Rovaniemi. Het is in Karasjok daarom een uur vroeger.
- B** Karasjok ligt boven de poolcirkel. Boven de poolcirkel is het één uur vroeger.
- C** Karasjok ligt in Noorwegen, Rovaniemi ligt in Finland. Noorwegen ligt in een andere tijdzone dan Finland.

vraag 3 Drie landen op de evenaar

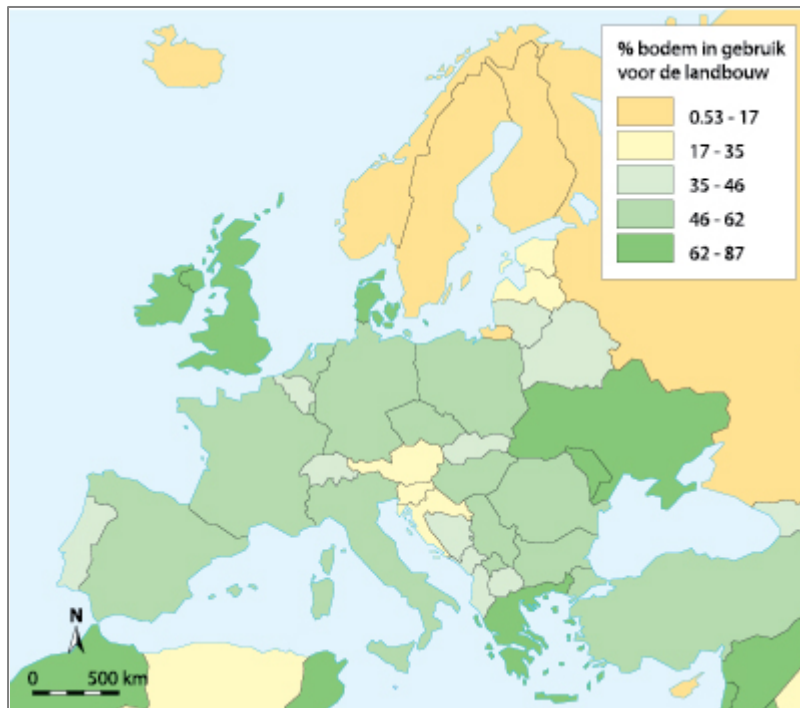


Op de kaart zie je drie landen die op de evenaar liggen.

In welk van deze landen is de grootste verscheidenheid aan klimaten?

- A** in Ecuador
- B** in Gabon
- C** In Nauru

vraag 4 Europa - percentage van de bodem gebruikt voor landbouw (2013)



Op de kaart zie je per land het percentage van de bodem dat gebruikt wordt voor de landbouw.

**Welke van de volgende kaarten kun je het beste gebruiken om de percentages van de landen in Noord-Europa te verklaren?
De kaart ...**

- A** 'Bevolkingsdichtheid'
- B** 'BNP per hoofd van de bevolking'
- C** 'Klimaten'
- D** 'Reliëf'

vraag 5 Wateroverlast in Bangladesh

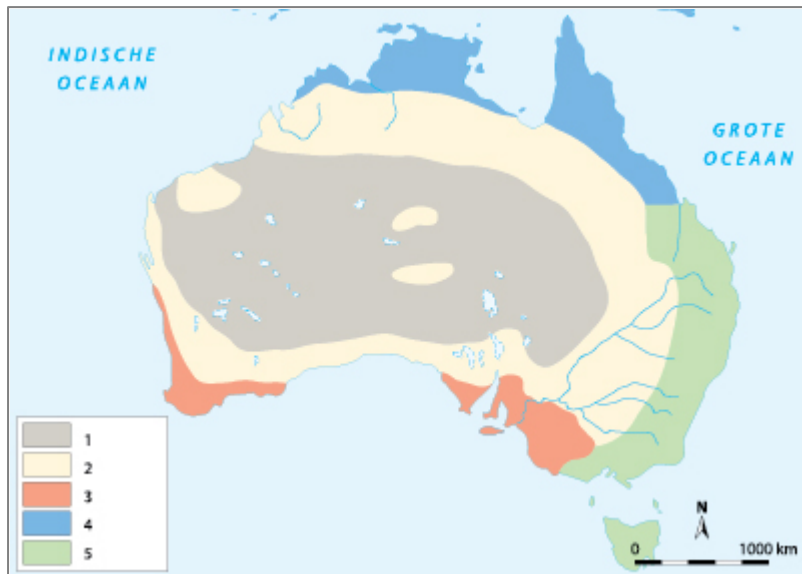


Hevige regenval zorgt regelmatig voor wateroverlast in Bangladesh.

Waar hangt deze regenval vooral mee samen?

- A** met de noordoost-passaat
- B** met de zuidwest-moesson
- C** met een koude zeestroom in de Grote Oceaan
- D** met een warme zeestroom in de Indische Oceaan

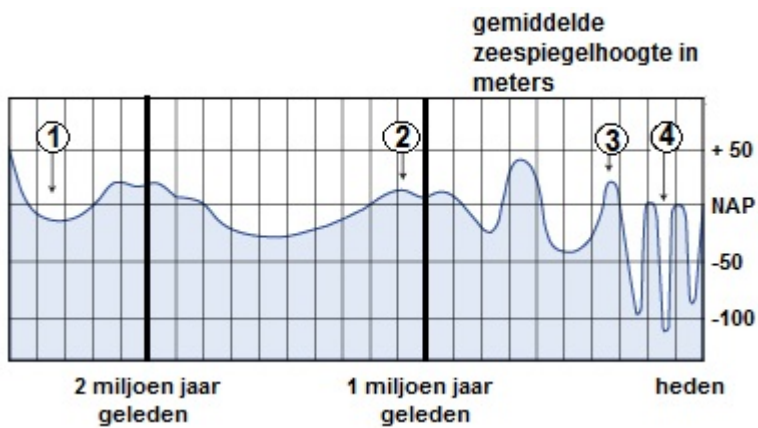
vraag 6 Klimaten in Australië



Welk onderdeel van de legenda hoort bij het tropisch klimaat?

- A** onderdeel 1
- B** onderdeel 3
- C** onderdeel 4
- D** onderdeel 5

vraag 7 Zeespiegel



In de grafiek zie je het verloop van de zeespiegel in de laatste twee miljoen jaar.

In welke periode was de temperatuur in het gebied waar nu Nederland ligt het laagst?

- A in periode 1
- B in periode 2
- C in periode 3
- D in periode 4

vraag 8 Eiland in de Grote Oceaan

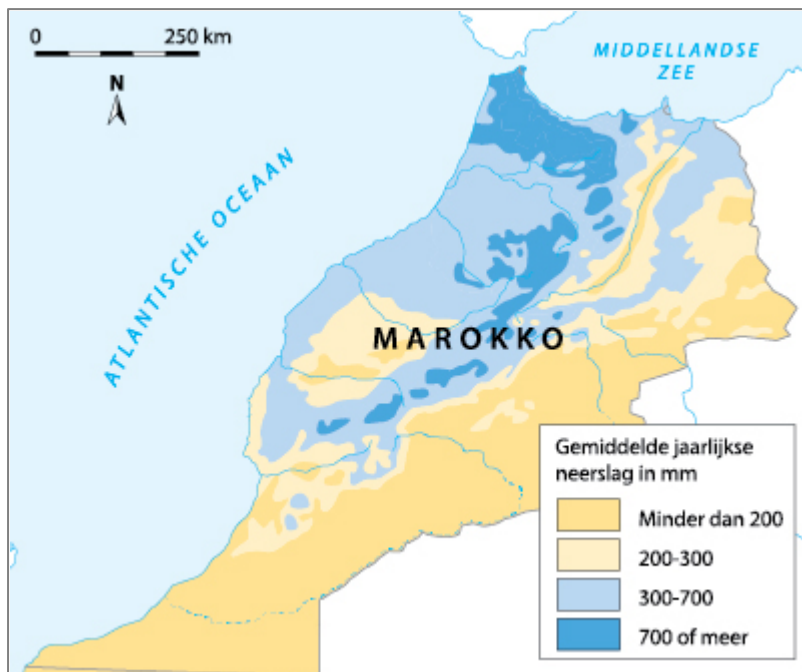


Op de foto zie je het eiland Rarotonga in de Grote Oceaan. De foto laat een veel voorkomend verschijnsel bij eilanden in de Grote Oceaan zien. Aan het eind van de dag verschijnen er wolken boven het eiland.

Waardoor ontstaan de wolken?

- A** De warme lucht boven het zeewater botst tegen de relatief koude lucht boven het eiland. Er ontstaat een front met wolken.
- B** Het eiland warmt gedurende de dag sneller op dan het water. De lucht stijgt op en er ontstaan wolken.
- C** Het zeewater verdampt en de vochtige lucht wordt door het reliëf van het eiland omhoog gestuwd. De vochtige lucht koelt af en er ontstaan wolken.

vraag 9 Neerslag in Marokko



Op de kaart zie je de verdeling van de neerslag in Marokko.

Waardoor wordt de relatief hoge neerslag vooral veroorzaakt?

- A door stijgingsregens in het noorden
- B door stijgingsregens in het zuiden
- C door stuwingsregens in het noorden
- D door stuwingsregens in het zuiden

vraag 10 Gorey Harbour



Op de foto zie je de haven van Gorey op Jersey, een eiland in het Kanaal. De eb is op zijn laagst.

Wanneer is het hier weer laagwater?

- A** na ongeveer 4 uur
- B** na ongeveer 12 uur
- C** na ongeveer 24 uur

vraag 11 Löss bij Nijmegen



Tussen de heuvels bij Nijmegen ligt de grondsoort löss. Deze grondsoort is hier ongeveer 100.000 jaar geleden afgezet.

**Hoe is deze grondsoort daar terecht gekomen?
De grondsoort is ...**

- A** daar achtergelaten door het schuivende landijs.
- B** daar neergelegd tijdens grote overstromingen van de Rijn en de Maas.
- C** door de wind meegenomen van de bodem van de drooggevallen Noordzee.

vraag 12 Emden, Delfzijl en omgeving

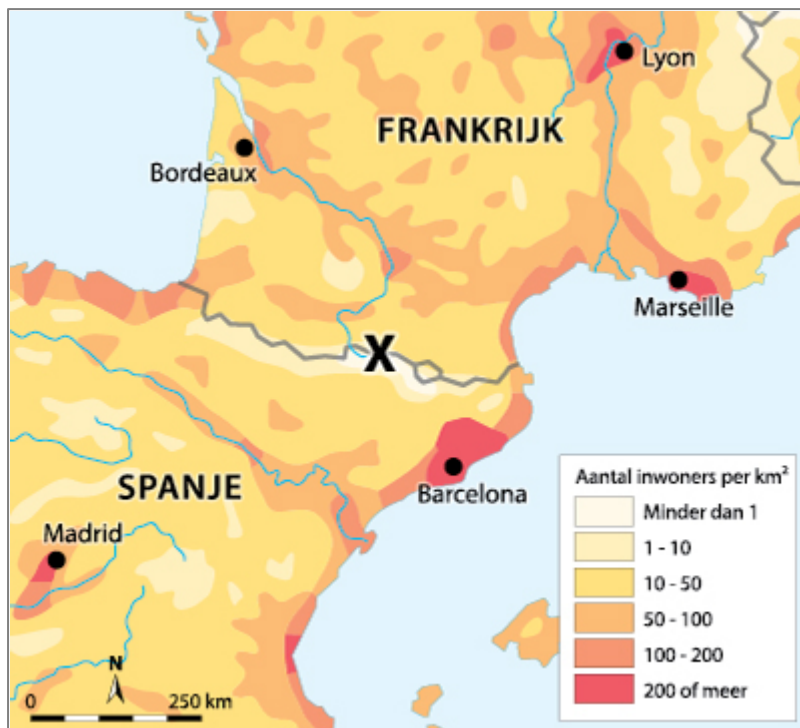


Op de kaart zie je een gebied in het noorden van Groningen en het aangrenzende gebied in Duitsland.

Wat is de belangrijkste functie van de geel gekleurde gebieden?

- A** akkerbouw en veeteelt
- B** havens en industrie
- C** natuur
- D** tuinbouw

vraag 13 Bevolkingsdichtheid

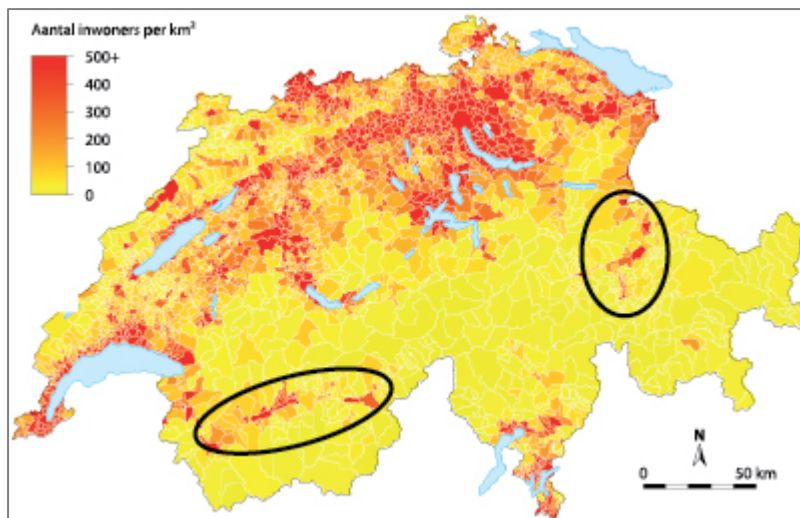


Op de kaart hierboven zie je de bevolkingsdichtheid in een deel van Europa.

Waar hangt de bevolkingsdichtheid bij X vooral mee samen?

- A met de slechte verbindingen
- B met het gebrek aan water
- C met het reliëf
- D met het warme klimaat

vraag 14 Bevolkingsdichtheid in Zwitserland

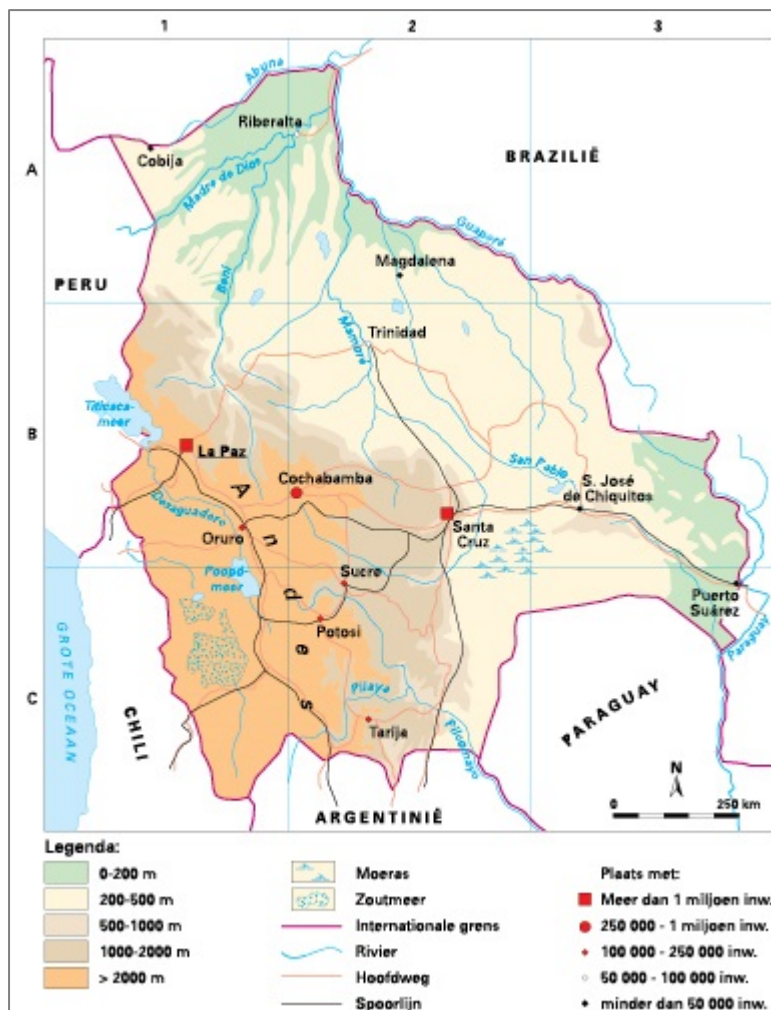


In Zwitserland zijn grote verschillen in bevolkingsdichtheid. Op de kaart zijn twee gebieden omcirkeld.

Waar hangen de verschillen in bevolkingsdichtheid in de omcirkelde gebieden mee samen?

- A** Deze gebieden maken deel uit van het Zwitserse laagland.
- B** Het zijn brede dalen in berggebieden.
- C** Het zijn druk bezochte toeristengebieden.

vraag 15 Bolivia



Het noorden en oosten van Bolivia zijn dunner bevolkt dan het zuidwesten van het land.

Met welk kenmerk van het noorden en oosten van Bolivia valt het verschil in bevolkingsdichtheid vooral samen?

- A de tropische bossen
- B het droge klimaat
- C het reliëf

vraag 16 Bevolking in vier landen

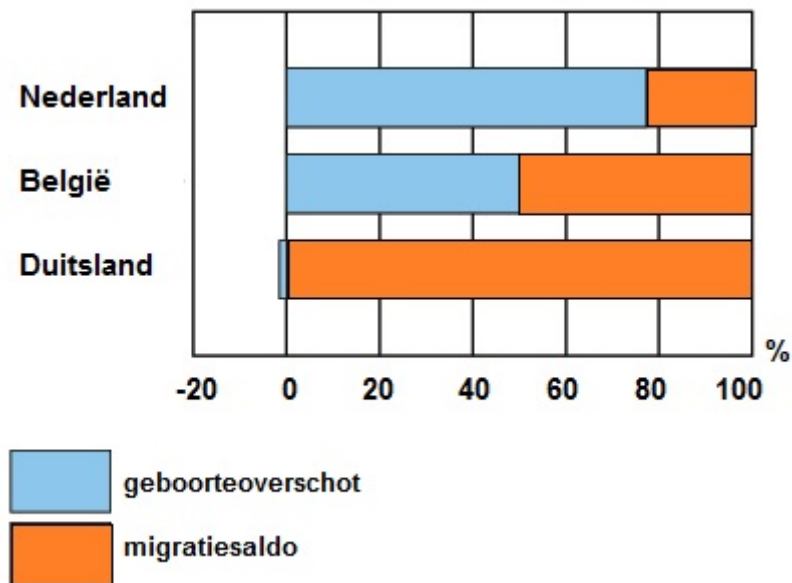
	aantal inwoners	geboortecijfer	sterftecijfer	immigratie	emigratie
land 1	10 miljoen	12‰	6‰	1.000	10.000
land 2	15 miljoen	8‰	9‰	8.000	7.000
land 3	20 miljoen	14‰	10‰	50.000	40.000
land 4	8 miljoen	15‰	12‰	3.000	6.000

In de tabel zie je gegevens over de ontwikkeling van de bevolking in vier landen op de wereld.

Welk van deze landen land kent procentueel de grootste natuurlijke bevolkingsgroei?

- A** land 1
- B** land 2
- C** land 3
- D** land 4

vraag 17 Bevolkingsgroei van drie landen (1960-2010)

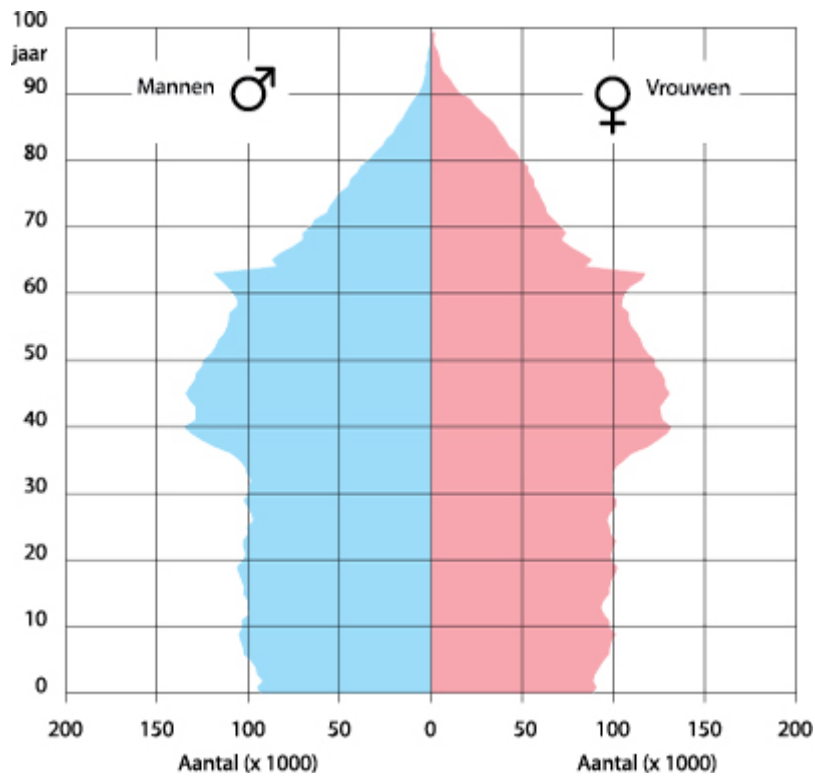


In de grafiek zie je het aandeel van het geboorteoverschot en het migratiesaldo in de bevolkingsgroei van Nederland, België en Duitsland. De grafiek laat belangrijke verschillen zien tussen Nederland en haar buurlanden.

Welke factor speelt bij de verklaring van deze verschillen een belangrijke rol?

- A** De relatief grote omvang van de groep allochtonen in Nederland.
- B** Het relatief grote aantal Nederlanders dat in deze periode is geëmigreerd.
- C** Het relatief hoge geboortecijfer in Nederland in deze periode.

vraag 18 Leeftijdsopbouw in Nederland in 2010

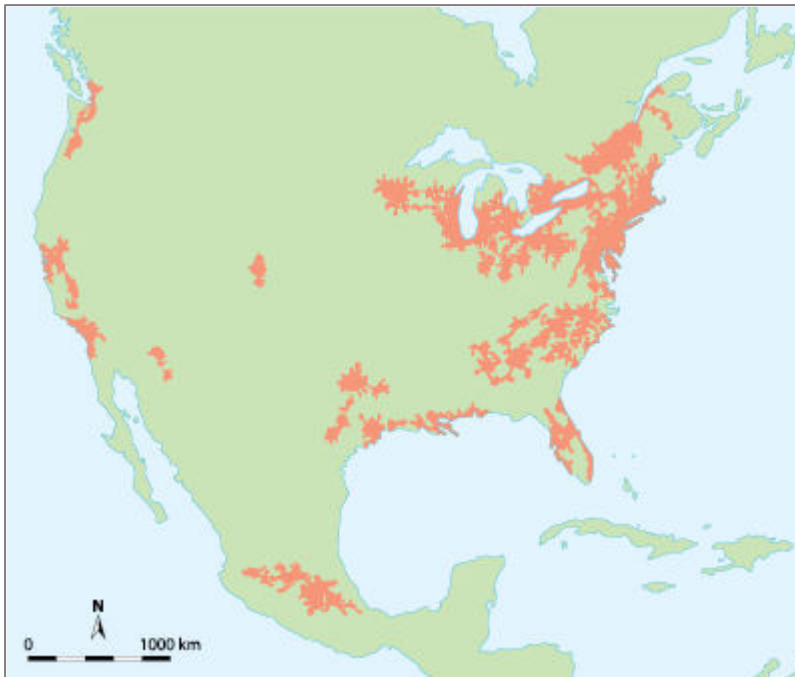


In 2010 was de groep rond 40 jaar relatief groot.

Waar hangt dat mee samen?

- A** met de groep Nederlanders uit de geboortegolf na 1945
- B** met de immigratie uit Turkije en Marokko na 1970
- C** met de stijging van de welvaart in Nederland na 1960

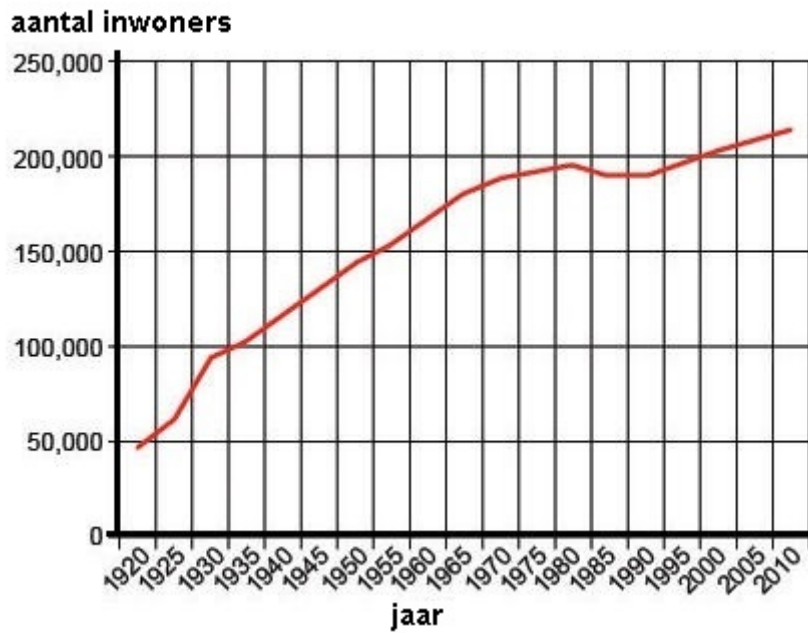
vraag 19 Kaart van Noord-Amerika



Welke titel past het best bij deze kaart?

- A** 'Belangrijke landbouwgebieden'
- B** 'Bergen'
- C** 'Laagland'
- D** 'Stedelijke gebieden'

vraag 20 De groei van Eindhoven



In de grafiek zie je de ontwikkeling van de bevolking van Eindhoven.

Welke uitspraak over de groei van de stad is juist?
De stad groeide vooral ...

- A** tot 1965 als gevolg van de industrialisatie.
- B** tot 1965 als gevolg van de suburbanisatie.
- C** na 1965 als gevolg van de industrialisatie.
- D** na 1965 als gevolg van de suburbanisatie.

vraag 21 Agglomeraties in Nederland

Amsterdam (Amsterdam, Amstelveen, Ouder-Amstel, Diemen, Weesp, Zaanstad en Haarlemmermeer)

Rotterdam (Rotterdam, Schiedam, Vlaardingen, Maassluis, Lansingerland, Spijkenisse, Albrandswaard, Barendrecht, Ridderkerk, Capelle aan den IJssel en Krimpen aan den IJssel)

Den Haag (Den Haag, Delft, Wassenaar, Leidschendam-Voorburg, Rijswijk, Pijnacker-Nootdorp, Westland, Midden-Delfland en Zoetermeer)

Eindhoven (Eindhoven, Helmond, Veldhoven, Son en Breugel, Best, Geldrop-Mierlo, Nuenen en Waalre)

Utrecht (Utrecht, De Bilt, Zeist, Maarssen, De Meern, Bunnik, Houten, Nieuwegein, IJsselstein en Vianen)

In het lijstje zie je de vijf agglomeraties in Nederland.

Welke twee gebieden zijn hard op weg om de zesde en zevende agglomeratie te worden?

- A** Arnhem-Nijmegen en Middelburg-Vlissingen
- B** Arnhem-Nijmegen en Twente
- C** Middelburg-Vlissingen en Twente

vraag 22 Stadsvernieuwing

Hieronder lees je drie krantenkoppen.

Bij welke krantenkop past het begrip 'stadsvernieuwing' het best?

- A** 'Groen licht voor uitbreiding nieuwbouwwijk'
- B** 'Nieuwe busverbinding met omliggende dorpen groot succes'
- C** 'Woningen nabij centrum opgeknapt'

vraag 23 Bruto nationaal product

In welk van de landen hieronder zal het bruto nationaal product per hoofd van de bevolking het laagst zijn?

In een land met ...

- A** een grote informele sector.
- B** een grote industriële sector.
- C** een kleine informele sector.
- D** een kleine industriële sector.

vraag 24 Winning van zand, grind en schelpen



Op de kaart zie je de plaatsen in Nederland waar zand, grind en schelpen gewonnen worden.

Met welk symbool wordt de winning van grind aangegeven?

- A** met symbool 1
- B** met symbool 2
- C** met symbool 3

vraag 25 Verbindingen



Op de kaart zijn belangrijke verbindingen in een deel van de wereld aangegeven.

Om welke van de volgende verbindingen gaat het?

- A** internetkabels
- B** routes van olietankers
- C** routes van passagiersschepen
- D** vliegverbindingen

vraag 26 Wegverbindingen tussen Arnhem en Praag



Hieronder staan vier uitspraken over de afstand tussen Arnhem en Praag.

Welke van deze uitspraken is juist?

- A** De absolute afstand tussen deze steden is in de loop der jaren kleiner geworden.
- B** De relatieve afstand tussen deze steden is groter dan de absolute afstand.
- C** De relatieve afstand tussen deze steden is de laatste 50 jaar groter geworden.

vraag 27 Aardschokken in Nederland (2014)



Op de kaart zie je de aardschokken in Nederland en directe omgeving in 2014. Twee typen schokken zijn met verschillende kleuren weergegeven.

Wat is een belangrijk verschil tussen de twee typen schokken?

- A** De met geel aangegeven schokken hebben een natuurlijke oorzaak.
De met rood aangegeven schokken zijn het gevolg van delfstofwinning.
- B** De met rood aangegeven schokken hebben een natuurlijke oorzaak.
De met geel aangegeven schokken zijn het gevolg van delfstofwinning.
- C** De met geel aangegeven schokken zijn zware aardschokken.
De met rood aangegeven schokken zijn lichte aardschokken.
- D** De met rood aangegeven schokken zijn zware aardschokken.
De met geel aangegeven schokken zijn lichte aardschokken.

vraag 28 Inhoudsopgave van een atlas

34 China	58 Verenigde Staten
34A Bodemgebruik	58A Bodemgebruik
34B Het Oosten	58B Het Noordoosten
34C Het Westen	58C Florida
34D Tibet	58D Californië
	58E De Grote Meren

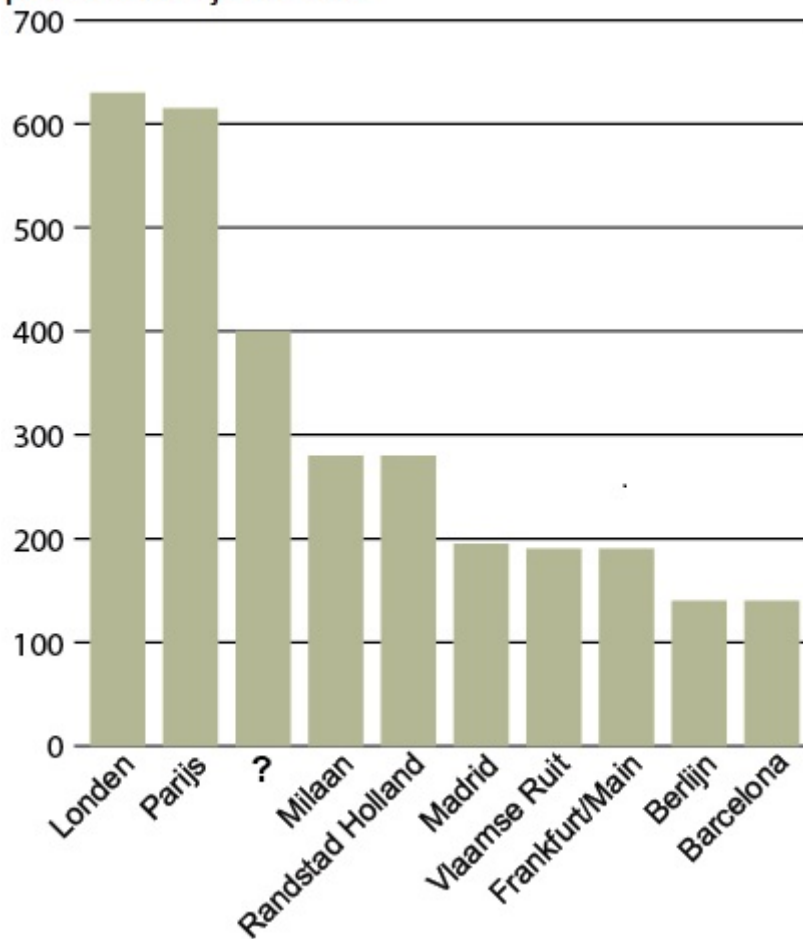
Hierboven zie je twee fragmenten uit de inhoudsopgave van een atlas.

Wat is een belangrijke overeenkomst tussen de gebieden op kaart 34B en 58B?

- A** Het zijn belangrijke economische gebieden in de wereld.
- B** Het zijn de gebieden op de wereld met de grootste kans op tsunami's.
- C** In deze gebieden zijn de centra van wereldgodsdiensten gevestigd.

vraag 29 Top 10 economische gebieden in Europa

producten in miljarden euro



In de grafiek zie je de tien economisch belangrijkste gebieden in Europa.

Welk gebied moet op de plaats van het vraagteken staan?

- A** Budapest
- B** Costa del Sol
- C** Lissabon
- D** Ruhrgebied

vraag 30 Rozen uit Tanzania



In Tanzania is de productie van rozen de laatste jaren sterk gestegen.

Welk van de volgende economische begrippen kan bij de verklaring van deze ontwikkeling niet ontbreken?

- A** globalisering
- B** mechanisatie
- C** extensieve landbouw

vraag 31 Koloniën



Op de kaart zie je in een deel van de wereld de landen die vroeger kolonie waren van een bepaald Europees land.

Van welk Europees land?

- A** Engeland
- B** Frankrijk
- C** Spanje

vraag 32 BNP p/ h in Europa

land	BNP p/h
Belgie	35600
Bulgarije	5600
Cyprus	21000
Denemarken	45100
Duitsland	34200
Estland	14200
Finland	37000
Frankrijk	32100
Griekenland	16500
Hongarije	10200
Ierland	38000
IJsland	35600
Italië	26700
Letland	11600
Litouwen	11800
Luxemburg	83100
Macedonië	3900
Malta	17900
Nederland	38300
Noorwegen	77400
Oostenrijk	38100
Polen	10300
Portugal	16400
Roemenië	7200
Servie	4800
Slovenië	17500
Slowakije	13600
Spanje	22500
Tsjechië	15000
Verenigd Koninkrijk	31500
Zweden	45500

Welk deel van Europa is het minst welvarend?

- A** het noordoosten
- B** het noordwesten
- C** het zuidoosten
- D** het zuidwesten

vraag 33 De bevolking van Nederland en Ethiopië

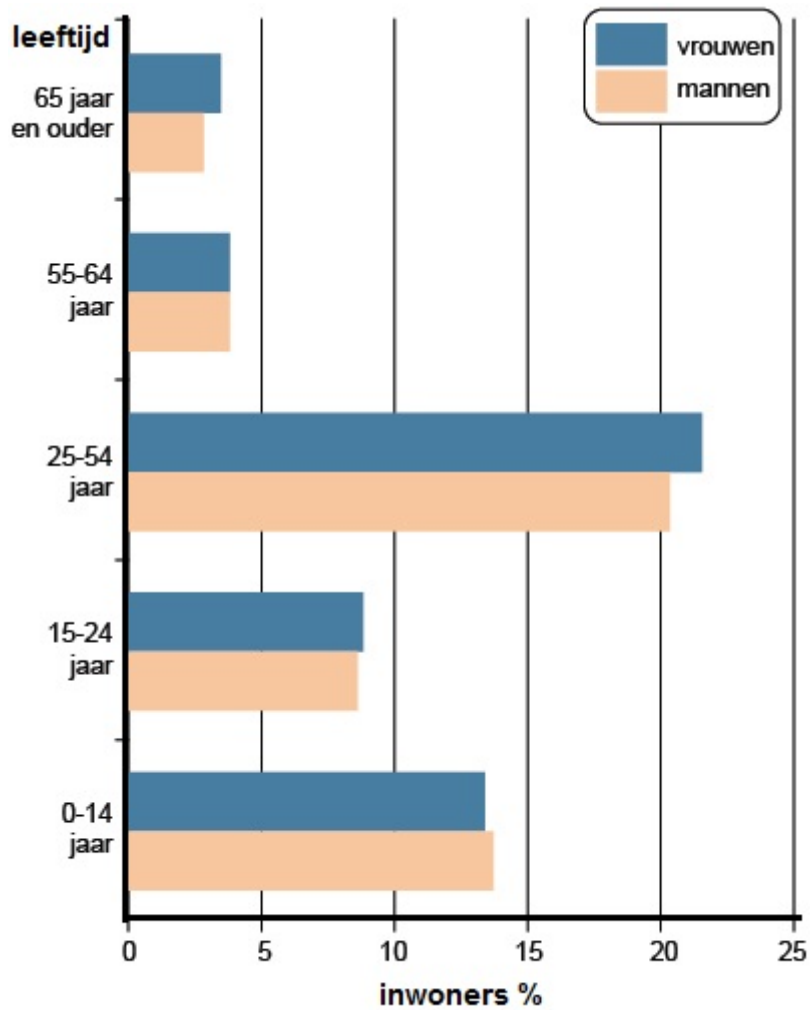
	NEDERLAND	ETHIOPIË
AANTAL INWONERS	16 miljoen	96 miljoen
GEBORTECIJFER	10‰	38‰
STERFTECIJFER	8‰	8‰
STEDELIJKE BEVOLKING	82%	17%
LEVENSVERWACHTING	81 jaar	61 jaar
ANALFABETISME	1%	61%

In de tabel hierboven zie je een vergelijking van de bevolking van Nederland en Ethiopië.

Hoe verklaar je het relatief lage sterftecijfer in Ethiopië?

- A** Ethiopië heeft een gunstig klimaat.
- B** Ethiopië heeft een jonge bevolking.
- C** In Ethiopië wonen weinig mensen in steden.

vraag 34 Leeftijdsopbouw Marokko (2014)



Hierboven zie je de leeftijdsopbouw van Marokko in 2014.

Welke leeftijdsgroep zal in 2045 naar verhouding groter zijn?

- A** 0-14 jaar
- B** 15-24 jaar
- C** 65 jaar en ouder

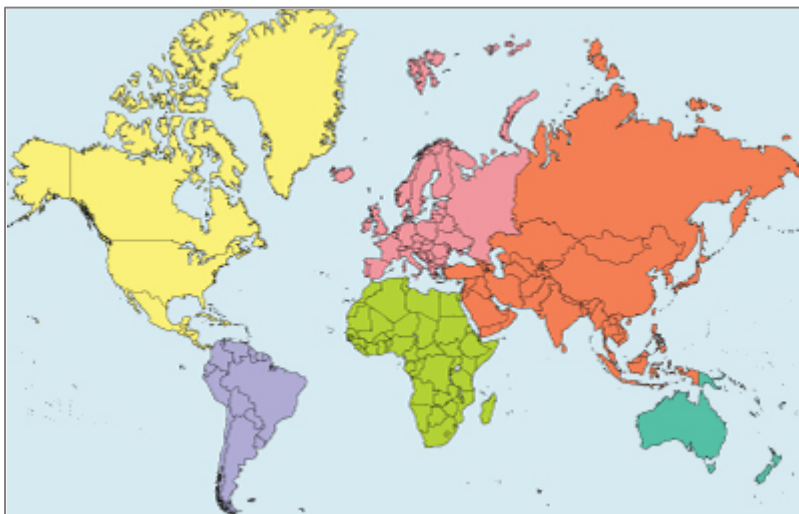
vraag 35 De Rijn

De rivier de Rijn vormt over ongeveer 150 kilometer een natuurlijke grens tussen twee landen in Europa.

Welke twee landen zijn dat?

- A Frankrijk en Duitsland
- B Duitsland en Zwitserland
- C Zwitserland en Frankrijk

vraag 36 Kaart van de wereld

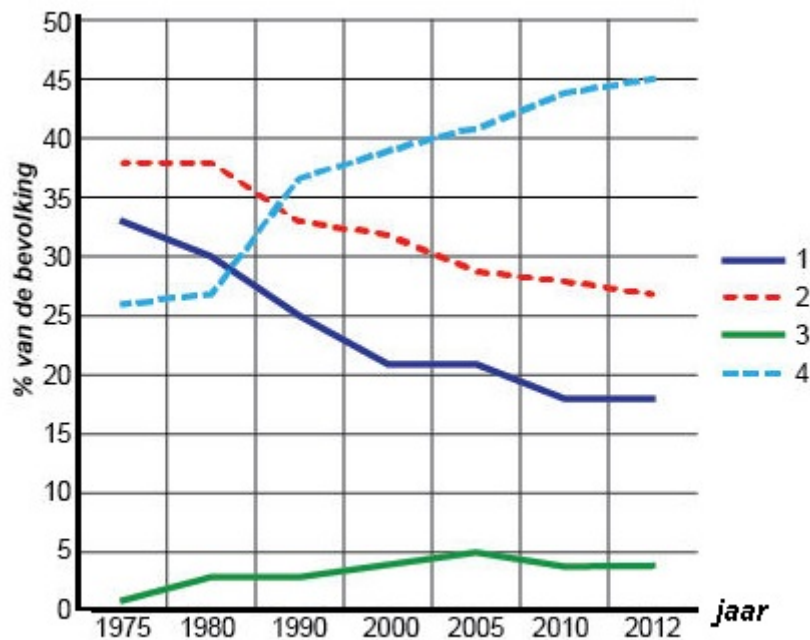


De wereld is op deze kaart in zes gebieden ingedeeld.

Welke titel past het best bij deze kaart?

- A 'Arm en Rijk'
- B 'Continente'
- C 'Cultuurgebieden'
- D 'Werelddelen'

vraag 37 Godsdiensten in Nederland



In de grafiek zie je de ontwikkeling van godsdiensten in Nederland.

Met welk cijfer is de categorie 'geen godsdienst' aangegeven?

- A** met 1
- B** met 2
- C** met 3
- D** met 4

vraag 38 India en Pakistan

Nadat India zich in 1945 had losgemaakt van Engeland, viel het land uiteen in twee aparte staten: India en Pakistan.

Wat was de belangrijkste aanleiding voor deze opsplitsing?

- A** conflicten over de opbrengsten van olievelden in de Indische Oceaan
- B** een verschil van mening over de gemeenschappelijke nieuwe officiële taal
- C** verschillen in inzicht over welke economische koers het land moest volgen
- D** verschillen in religieuze achtergrond van de inwoners van beide landen

vraag 39 Europese Gemeenschap

In 1992 werd de Europese Unie opgericht. Vanaf 1967 werkten zes landen van de EU al intensief samen in de Europese Gemeenschap. Nederland, België en Luxemburg behoorden tot deze organisatie.

Welk drie landen maakten ook deel uit van de Europese Gemeenschap?

- A Duitsland, Frankrijk en Italië
- B Engeland, Frankrijk en Denemarken
- C Engeland, Spanje en Duitsland
- D Spanje, Italië en Denemarken

vraag 40 Bulgarije



Op de kaart zie je de ligging van het land Bulgarije. Bulgarije is lid van de Europese Unie.

Hoeveel buurlanden van Bulgarije zijn op dit moment (2015) ook lid van de Europese Unie?

- A 1 buurland
- B 2 buurlanden
- C 3 buurlanden
- D 4 buurlanden

vraag 41 Nigeria



Op de kaart zie je de ligging van het West-Afrikaanse land Nigeria.

Welke beschrijving van de twee belangrijkste religies in Nigeria is juist?

- A** christenen in het zuiden, moslims in het noorden
- B** hindoes in het zuiden, christenen in het noorden
- C** moslims in het zuiden, hindoes in het noorden

vraag 42 Suriname



Op de kaart zie je de ligging van Suriname. In Suriname is het Nederlands de officiële taal.

Wat is de officiële taal in het zuidelijke buurland van Suriname?

- A** Engels
- B** Frans
- C** Portugees
- D** Spaans

vraag 43 Twee werelddelen



Op de kaart zie je twee werelddelen.

Welke uitspraak over deze werelddelen is juist?
De werelddelen ...

- A** blijven op dezelfde plaats liggen omdat ze deel uitmaken van één continent.
- B** liggen op verschillende aardplaten die naar elkaar toedrijven.
- C** liggen op verschillende aardplaten die van elkaar wegdrijven.

vraag 44 Mont Puget (Zuid-Frankrijk)



Dit gebergte bestaat vooral uit kalksteen.

Wat zegt dat over dit deel van Frankrijk?

- A** Hier was vroeger een zee.
- B** Hier was vroeger een tropisch bos.
- C** Hier waren vroeger actieve vulkanen.

vraag 45 Geirangerfjord (Noorwegen)



Op de foto zie je het Geirangerfjord in Noorwegen.
Het deel van het landschap waar het schip vaart, is op een bijzondere manier ontstaan.

Welk landschap elders in Europa is op vergelijkbare wijze ontstaan?

- A** de delta van de Rhône in Frankrijk
- B** de monding van de Theems in Engeland
- C** het dal van de Aletschgletsjer in Zwitserland

vraag 46 Strandopgang bij Domburg

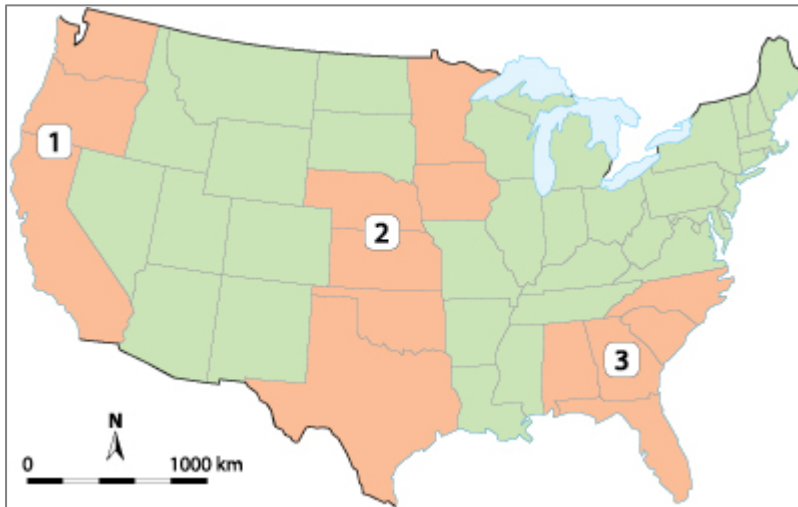


Bij Domburg op Walcheren is een strandopgang ingestort.

Welk proces heeft deze schade veroorzaakt?

- A** erosie door de wind
- B** erosie door het zeewater
- C** sedimentatie door de wind
- D** sedimentatie door het zeewater

vraag 47 Drie gebieden in de Verenigde Staten



Op de kaart van de VS zijn drie deelgebieden aangegeven.

In welk deelgebied is het risico op tornado's het grootst?

- A** in deelgebied 1
- B** in deelgebied 2
- C** in deelgebied 3

vraag 48 Overstromingen van de Ganges

De rivier de Ganges treedt regelmatig buiten haar oevers. De overstromingen nemen de laatste jaren in hevigheid toe.

Waar hangt dat mee samen?

- A** met de stijging van de gemiddelde temperatuur in het noorden van India
- B** met de toename van de ontbossingen in de Himalaya
- C** met het heviger worden van tropische stormen in de Indische Oceaan

vraag 49 Reliëf op Java

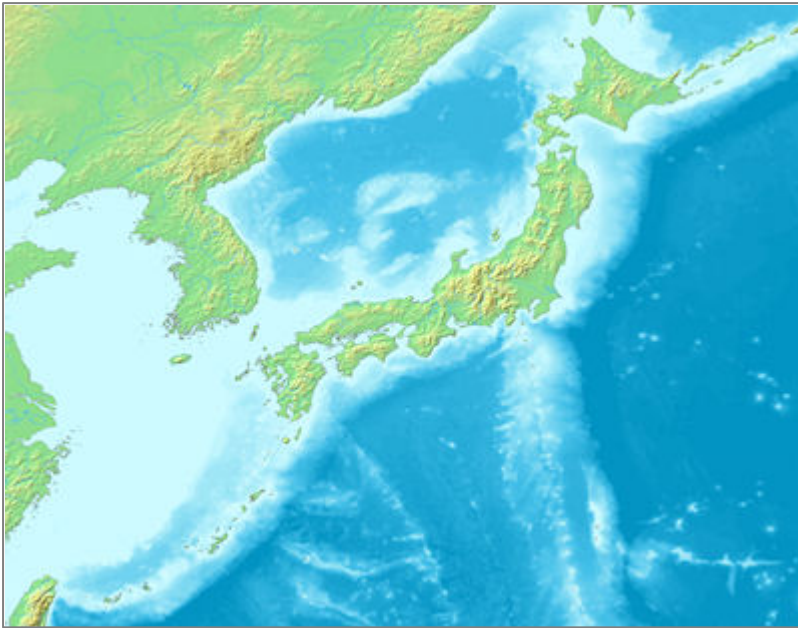


Op het eiland Java is veel reliëf.

Welk type reliëf vind je vooral op dit eiland?

- A** hoogvlakten
- B** horsten
- C** slenken
- D** vulkanen

vraag 50 Deel van Azië



In dit deel van Azië is veel reliëf.

Welke gebeurtenissen in de geologische geschiedenis hebben hier voor een belangrijk deel toe bijgedragen?

- A** Bij overstromingen heeft de zee grote delen van de kust weggeslagen.
- B** Door schuivende aardplaten zijn delen van het land opgetild.
- C** Tijdens de ijstijden heeft landijs het zand opgestuwd tot hoge stuwwallen.

vraag 51 Biodiesel

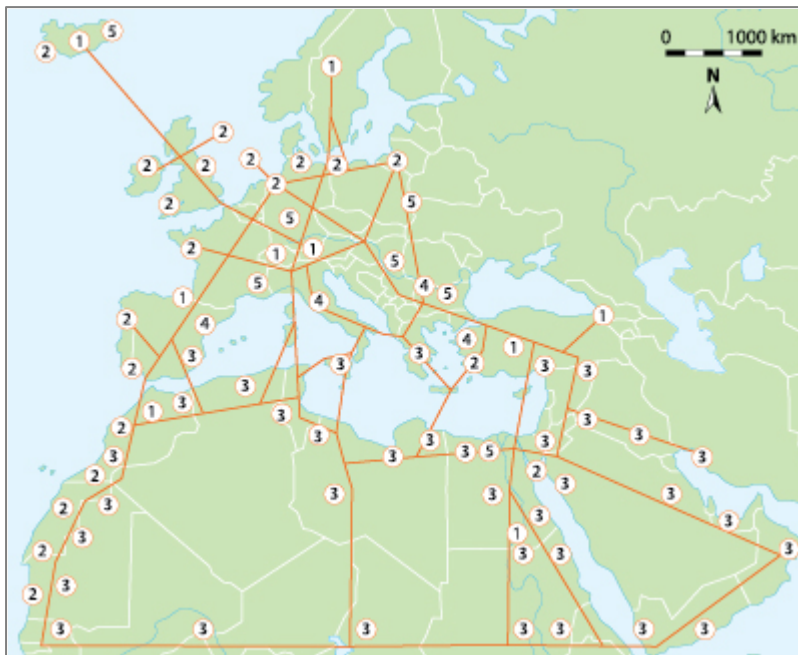


Biodiesel is goedkoper dan gewone diesel.

Wat is een tweede belangrijk voordeel van biodiesel?

- A** Biodiesel vervuult de lucht niet.
- B** Biodiesel is gemaakt van plantaardig materiaal.
- C** De grondstof voor biodiesel is op duurzame manier gewonnen.

vraag 52 Duurzame energie



Op de kaart zie je een plan voor de winning van elektriciteit uit waterkracht, windkracht, zonne-energie, geothermische energie en biomassa.

Met welk cijfer op de kaart worden de projecten aangegeven waarbij gebruik wordt gemaakt van windenergie?

- A met cijfer 1
- B met cijfer 2
- C met cijfer 3
- D met cijfer 4

vraag 53 CO₂ in Denemarken

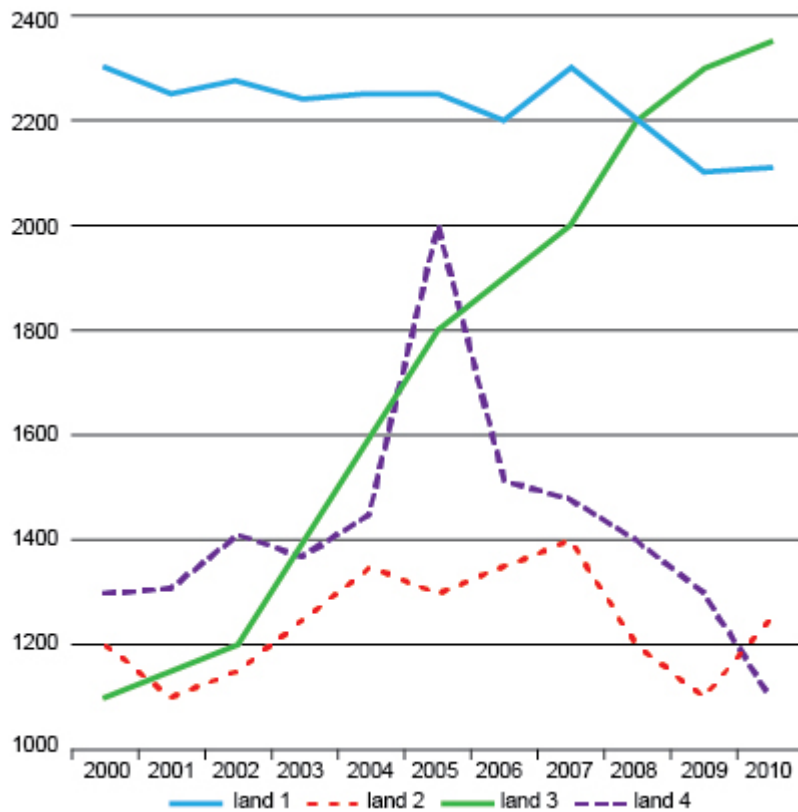
In Denemarken is sinds 1990 de CO₂ uitstoot met bijna 20% afgenomen.

Waar hangt dat mee samen?

- A De bevolking is door emigratie sterk in aantal gedaald.
- B Door de economische crisis is de welvaart in het land sterk afgenomen.
- C Er is veel geïnvesteerd in duurzame vormen van energieopwekking.

vraag 54 Energieverbruik in vier landen

(in miljoen ton olie equivalent)



In de grafiek zie je de ontwikkeling van het energieverbruik in vier landen, waaronder China en de Verenigde Staten.

Welk land stelt China voor?

- A** land 1
- B** land 2
- C** land 3
- D** land 4

vraag 55 Schipbeek



Op de foto zie je de Schipbeek bij Deventer.

**Van welk stroomgebied maakt deze beek deel uit?
Van het stroomgebied van de ...**

- A** IJssel.
- B** Maas.
- C** Rijn.
- D** Schelde.

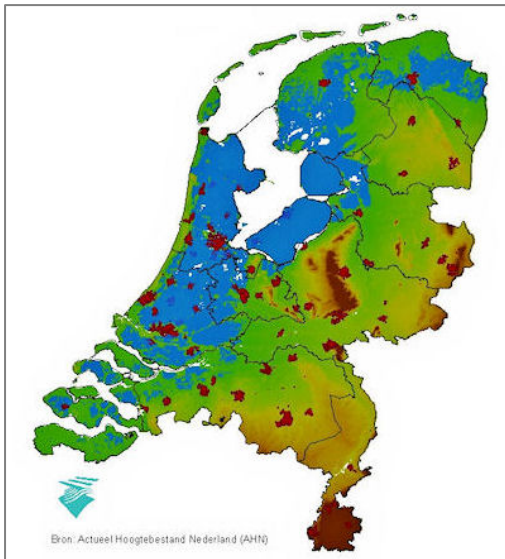
vraag 56 Zoet water in Saoedi-Arabië



Waar vind je in dit deel van de wereld de grootste voorraad zoet water?

- A** in aquifers
- B** in de Golf van Aqaba, de Golf van Aden en de Perzische Golf
- C** in gletsjers in de bergen
- D** in rivieren en meren

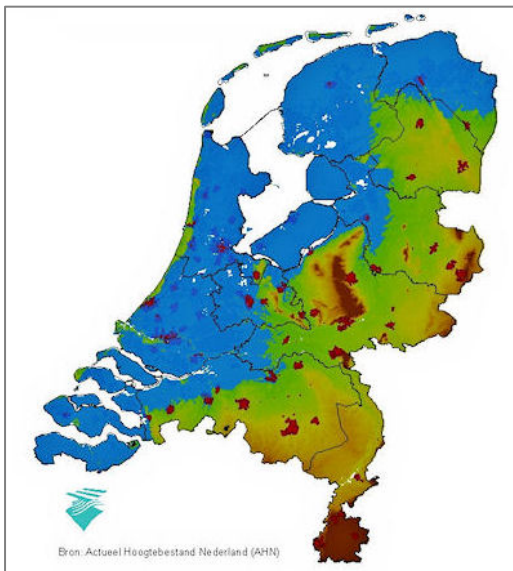
vraag 57 Stijging van de zeespiegel



Op de kaart is met blauw aangegeven welk deel van Nederland onder 0 meter NAP ligt. Dit deel van het land zal, zonder de bescherming van zeedijkten, overstromen.

Als de zeespiegel stijgt, zal een groter deel van Nederland zonder bescherming van zeedijkten onder water staan.

Hoeveel meter is de zeespiegel gestegen in de situatie op de kaart hieronder?



- A 0,50 meter
- B 2,5 meter
- C 50 meter
- D 100 meter

vraag 58 Overstroming in Nederland



Op de kaart zie je een grote overstroming in de geschiedenis van Nederland.

In welk van de volgende jaren vond deze overstroming plaats?

- A** in 1675
- B** in 1916
- C** in 1953

vraag 59 Stuw bij Driel



Bij Driel in de Neder-Rijn is deze stuw gebouwd.

Wanneer wordt de stuw gesloten?

- A** Als er geen scheepvaartverkeer in de Rijn is.
- B** Als er zware storm op de Noordzee wordt verwacht.
- C** Als het water in de Rijn laag staat.
- D** Als het water in de Rijn sterk vervuild is.

vraag 60 Golfbaan aan de Costa del Sol (Spanje)



Er is veel weerstand van boeren in dit deel van Spanje tegen de aanleg van golfterreinen.

Wat is een belangrijk bezwaar?

- A** Bij de aanleg van golfterreinen worden veel bomen gekapt. In heuvelachtige gebieden zoals deze dreigt daardoor bodemerosie.
- B** In dit deel van Spanje is weinig vruchtbare landbouwgrond. Golfbanen nemen veel vruchtbare landbouwgrond in beslag.
- C** Voor het onderhoud van de golfbanen is veel water nodig. Er een tekort aan water in dit deel van Spanje.

einde